

About the Book

Agrawal Examcart द्वारा आपके लिए लाई गई हमारी नवीनतम रचना - सॉल्व्ड पेपर बुक के साथ अपनी परीक्षा की तैयारी को सुपरचार्ज करने के लिए तैयार हो जाइए! जानिए इसे लेने के मुख्य कारण:

- अपनी परीक्षा की तैयारी का सटीक आकलन करने के लिए पिछले वर्षों के प्रश्न पत्रों को हल करना महत्वपूर्ण है। यह आपको वास्तविक जानकारी देता है कि आप अपनी तैयारी के वर्तमान स्तर के आधार पर परीक्षा में उत्तीर्ण होने के लिए तैयार हैं या नहीं।

- पेपर के साथ हम प्रत्येक प्रश्न का विस्तृत हल भी प्रदान कराते हैं। विशेषज्ञों द्वारा तैयार हर प्रश्न का हल आपको सही उत्तरों के पीछे की अवधारणाओं को समझने में मदद करेगा, जिससे आपका सीखने का अनुभव और भी बढ़ जाएगा।

अपनी परीक्षा की सफलता को संयोग पर न छोड़ें। आज ही हमारी सॉल्व्ड पेपर बुक की अपनी प्रति प्राप्त करें और अपनी तैयारी को अगले स्तर पर ले जाएँ।

अन्य महत्वपूर्ण पुस्तकें



Buy books at great discounts on: www.examcart.in | www.amazon.in/examcart |

AGRAWAL
EXAMCART
Paper Pakka Fasega!

CB1898

SSC स्टेनोग्राफर ग्रेड सी व डी
सॉल्व्ड पेपर्स

ISBN - 978-93-6054-146-0



₹ 219

SSC स्टेनोग्राफर ग्रेड सी व डी सॉल्व्ड पेपर्स

CB1898
AGRAWAL
EXAMCART

SSC स्टेनोग्राफर

AGRAWAL
EXAMCART
Paper Pakka Fasega!

विगत वर्षों के
पेपर्स के विश्लेषण
चार्ट का समावेश!

ग्रेड सी व डी भर्ती परीक्षा

परीक्षा सूची

वर्ष	पेपर्स की संख्या
2020	2
2021	3
2022	3
2023	2

अब होगा
SSC स्टेनोग्राफर
का महाअभ्यास
जब होंगे विगत वर्षों के
सबसे ज़्यादा पेपर्स
एक साथ!

10 सॉल्व्ड पेपर्स

(2023, 2022, 2021, 2020)

Code
CB1898

Price
₹ 219

Pages
222

ISBN
978-93-6054-146-0

विषय सूची

पृष्ठ संख्या

Appendix	
⊙ Important Information	iv
⊙ SSC स्टेनोग्राफर ग्रेड 'सी' व 'डी' के पिछले वर्षों के हल प्रश्न-पत्रों का विश्लेषण चार्ट	v
⊙ SSC स्टेनोग्राफर ग्रेड 'सी' व 'डी' परीक्षा का पाठ्यक्रम एवं परीक्षा पैटर्न	viii
सॉल्व्ड पेपर्स	
	1-214
1. SSC स्टेनोग्राफर, ग्रेड 'सी' व 'डी' परीक्षा (हल प्रश्न-पत्र) परीक्षा तिथि : 18-11-2022 (द्वितीय पाली)	1-25
2. SSC स्टेनोग्राफर, ग्रेड 'सी' व 'डी' परीक्षा (हल प्रश्न-पत्र) परीक्षा तिथि : 17-11-2022 (प्रथम पाली)	26-50
3. SSC स्टेनोग्राफर, ग्रेड 'सी' व 'डी' परीक्षा (हल प्रश्न-पत्र) परीक्षा तिथि : 17-11-2022 (द्वितीय पाली)	51-75
4. SSC स्टेनोग्राफर, ग्रेड 'सी' व 'डी' परीक्षा (हल प्रश्न-पत्र) परीक्षा तिथि : 15-11-2021 (प्रथम पाली)	76-96
5. SSC स्टेनोग्राफर, ग्रेड 'सी' व 'डी' परीक्षा (हल प्रश्न-पत्र) परीक्षा तिथि : 12-11-2021 (द्वितीय पाली)	97-118
6. SSC स्टेनोग्राफर, ग्रेड 'सी' व 'डी' परीक्षा (हल प्रश्न-पत्र) परीक्षा तिथि : 11-11-2021 (द्वितीय पाली)	119-138
7. SSC स्टेनोग्राफर, ग्रेड 'सी' व 'डी' परीक्षा (हल प्रश्न-पत्र) परीक्षा तिथि : 24-12-2020 (प्रथम पाली)	139-155
8. SSC स्टेनोग्राफर, ग्रेड 'सी' व 'डी' परीक्षा (हल प्रश्न-पत्र) परीक्षा तिथि : 24-12-2020 (द्वितीय पाली)	156-172
9. SSC स्टेनोग्राफर, ग्रेड 'सी' व 'डी' परीक्षा (हल प्रश्न-पत्र) परीक्षा तिथि : 13-10-2023 (तृतीय पाली)	173-193
10. SSC स्टेनोग्राफर, ग्रेड 'सी' व 'डी' परीक्षा (हल प्रश्न-पत्र) परीक्षा तिथि : 12-10-2023 (प्रथम पाली)	194-214

स्टेनोग्राफर ग्रेड 'C' और 'D' परीक्षा, 2022

परीक्षा तिथि : 18-11-2022 (द्वितीय पाली)

सामान्य बुद्धिमत्ता और तर्कशक्ति

- उस समूह का चयन करें जिसमें संख्याएँ उसी प्रकार संबंधित हैं, जिस प्रकार दिए गए समूह की संख्याएँ हैं। (नोट: गणितीय संक्रियाएँ संख्याओं को उसके घटक अंकों में विभाजित किए बिना, पूर्ण संख्याओं पर की जानी चाहिए। उदाहरण के लिए 13-13 पर गणितीय संक्रियाएँ जैसे कि 13 को जोड़ना/घटाना/गुणा करना आदि की जा सकती हैं। 13 को 1 और 3 के रूप में अलग करने और फिर 1 और 3 पर गणितीय संक्रियाएँ करने की अनुमति नहीं है।)
- राहुल पूर्व की ओर चलना शुरू करता है और 80 m की दूरी तय करता है। वह अपने दाएँ ओर मुड़ता है और 30 m चलता है। वह फिर से दाएँ मुड़ता है और 30 m चलता है। अंत में, वह उत्तर की ओर मुड़ता है और 30 m की दूरी तय करता है। अब वह अपने मूल स्थान से कितनी दूर है?
- उस समूह का चयन करें जिसमें संख्याएँ उसी प्रकार संबंधित हैं, जिस प्रकार दिए गए समूह की संख्याएँ हैं। (नोट: गणितीय संक्रियाएँ संख्याओं को उसके घटक अंकों में विभाजित किए बिना, पूर्ण संख्याओं पर की जानी चाहिए। उदाहरण के लिए 13-13 पर गणितीय संक्रियाएँ जैसे कि 13 को जोड़ना/घटाना/गुणा करना आदि की जा सकती हैं। 13 को 1 और 3 के रूप में अलग करने और फिर 1 और 3 पर गणितीय संक्रियाएँ करने की अनुमति नहीं है।)

(10, 3, 170)

- (A) (8, 9, 256)
(B) (7, 9, 256)
(C) (7, 6, 246)
(D) (6, 9, 226)

4. 02 फरवरी, 3015 को सप्ताह का कौन-सा दिन होगा?

- (A) मंगलवार (B) शुक्रवार
(C) गुरुवार (D) बुधवार

5. यदि A का अर्थ '+' है, B का अर्थ '×' है, C का अर्थ '-' है और D का अर्थ '÷' है, तो निम्नलिखित व्यंजक का मान क्या होगा?

124 C 5 B 23 A 56 D 8 = ?

- (A) 16 (B) 29
(C) 14 (D) 18

6. उस विकल्प का चयन कीजिए, जो उन अक्षरों का निरूपण करता हो, जिन्हें निम्न अक्षर-शृंखला में क्रमानुसार बाएँ से दाएँ रखने पर वे शृंखला-पूर्ति करेंगे।

TS _ M T S _ P _ T _ O P _ _ S O _ M

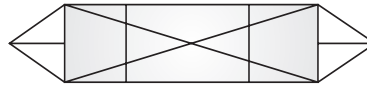
- (A) M S T O P T S O
(B) O P M M S T O P
(C) O P O M S M T P
(D) P M S T M O S T

7. निम्नलिखित में से कौन-सी संख्या, दी गई शृंखला में प्रश्न-चिह्न (?) को प्रतिस्थापित करेगी ?

7, 8, 8, 51, 140, ?

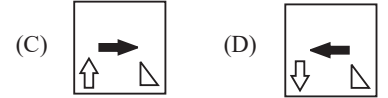
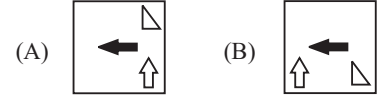
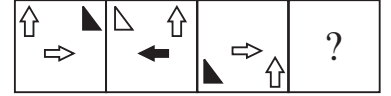
- (A) 575 (B) 625
(C) 825 (D) 775

8. दी गई आकृति में कितने त्रिभुज हैं?



- (A) 26 (B) 24
(C) 8 (D) 22

9. उस आकृति का चयन करें जो निम्नलिखित आकृति शृंखला में प्रश्न चिह्न (?) को प्रतिस्थापित करेगी।



10. निम्नलिखित में से कौन-सा अक्षर समूह प्रश्न-चिह्न (?) का स्थान लेगा और दी गई शृंखला को पूरा करेगा?

TJAP, GDPX, ?, GRTN, TLIV

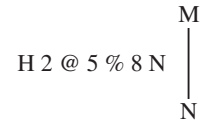
- (A) SJEO (B) TXEF
(C) TXPO (D) SJRF

11. उस अक्षर-समूह का चयन करें, जो दी गई शृंखला में प्रश्न-चिह्न (?) को प्रतिस्थापित करेगा और इस शृंखला को तार्किक रूप से पूर्ण करेगा।

QHJ, SFL, ?, WBP, YZR

- (A) TEM (B) TCM
(C) VEN (D) UDN

12. दर्पण को चित्र में दिखाए अनुसार MN पर रखे जाने पर दी गई आकृति के सही दर्पण प्रतिबिम्ब का चयन करें।



- (A) $\Sigma 8 \% 5 @ 7 H$
(B) $\Sigma 8 \% 2 @ 5 H$
(C) $\forall 8 \% 2 @ 5 H$
(D) $N 8 \% 5 @ 7 H$

13. उस समुच्चय का चयन कीजिए जिसमें संख्याएँ आपस में उसी प्रकार संबंधित हैं जिस प्रकार निम्नलिखित समुच्चयों की संख्याएँ आपस में संबंधित हैं। (नोट: संख्याओं को उसके घटक अंकों में विभाजित किए

बिना, पूर्ण संख्याओं पर गणितीय संक्रियाएँ की जानी चाहिए। उदाहरण के लिए 13-गणितीय संक्रियाएँ जैसे कि जोड़ना/घटाना/गुणा करना इत्यादि 13 में किया जा सकता है। 13 को 1 और 3 में विभाजित करना और फिर 1 और 3 पर गणितीय संक्रियाएँ करने की अनुमति नहीं है।)

(13, 52, 91)

(19, 76, 133)

(A) (17, 68, 119)

(B) (11, 55, 99)

(C) (9, 45, 63)

(D) (12, 48, 96)

14. नीचे दो कथन और दो निष्कर्ष दिए गए हैं। कथनों को सत्य मानें, भले ही वे सर्वज्ञात तथ्यों से भिन्न हों और निर्णय लें कि कौन-सा/से निष्कर्ष दिए गए कथनों का अनुसरण करता है/करते हैं।

कथन :

सभी आँखें नाक हैं।

कुछ नाक होंट हैं।

निष्कर्ष

I. कुछ नाक आँखें हैं।

II. सभी होंट नाक हैं।

- (A) केवल निष्कर्ष II अनुसरण करता है
(B) केवल निष्कर्ष I अनुसरण करता है
(C) दोनों निष्कर्ष अनुसरण करते हैं।
(D) न तो निष्कर्ष I अनुसरण करता है और न ही II अनुसरण करता है।

15. निम्नलिखित समीकरण को संतुलित करने के लिए विकल्पों में दी गई किन दो संख्याओं को परस्पर बदलना होगा?

$$(150 \div 3 + 15) \div 3 \times 6 + 30 = 135$$

(A) 150 और 135

(B) 30 और 15

(C) 15 और 6

(D) 3 और 6

16. उस समुच्चय का चयन कीजिए जिसमें संख्याएँ आपस में उसी प्रकार संबंधित हैं जिस प्रकार निम्नलिखित समुच्चयों की संख्याएँ आपस में संबंधित हैं। (नोट: संख्याओं को उसके घटक अंकों में विभाजित किए बिना, पूर्ण संख्याओं पर गणितीय संक्रियाएँ की जानी चाहिए। उदाहरण के लिए 13-गणितीय संक्रियाएँ जैसे कि जोड़ना/घटाना/गुणा करना इत्यादि 13 में किया जा सकता है। 13 को 1 और 3 में विभाजित करना और फिर 1 और 3 पर गणितीय संक्रियाएँ करने की अनुमति नहीं है।)

(221, 144, 73)

(222, 153, 75)

(A) (123, 137, 72)

(B) (223, 137, 74)

(C) (223, 137, 72)

(D) (223, 138, 72)

17. एक निश्चित कूट भाषा में 'MOUSE' को '62' के रूप में लिखा जाता है और 'SHEEP' को '82' के रूप में लिखा जाता है। उसी भाषा में 'PIG' को किस प्रकार लिखा जाएगा?

(A) 56 (B) 48

(C) 34 (D) 49

18. निम्नलिखित श्रृंखला में प्रश्न चिह्न (?) के स्थान पर कौन-सी संख्या आएगी?

2, 12, 30, ?, 90, 132

(A) 42 (B) 56

(B) 35 (D) 63

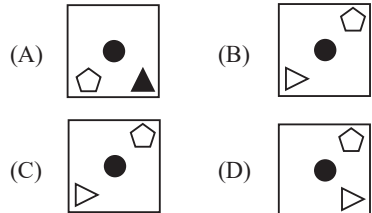
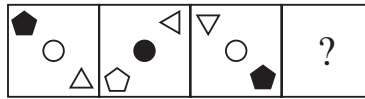
19. दिए गए समीकरण में कौन-से दो चिह्नों के स्थान परस्पर बदल देने से समीकरण संतुलित हो जाएगा?

$$320 \times 4 - 16 \div 4 + 2 = 18$$

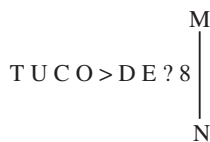
(A) \times और $-$ (B) $+$ और $-$

(C) \times और $+$ (D) \div और \times

20. उस आकृति का चयन करें जो निम्नलिखित आकृति श्रृंखला में प्रश्न चिह्न (?) को प्रतिस्थापित करेगी।



21. दर्पण को चित्र में दिखाए अनुसार MN पर रखे जाने पर दी गई आकृति के सही दर्पण प्रतिबिम्ब का चयन करें।



(A) 8 ? E D < O C U T

(B) 8 ? E D < O U C L

(C) 0 ? U D E < O C U L

(D) 8 ? E D < O C U T

22. दो कथनों के बाद दो निष्कर्ष I और II दिए गए हैं। कथनों को सत्य मानते हुए, भले ही वे सामान्य रूप से ज्ञात तथ्यों से भिन्न प्रतीत होते हों, निर्णय लीजिए कि कौन-सा/से

निष्कर्ष कथनों का तार्किक रूप से अनुसरण करता है/करते हैं।

कथन :

सभी पेंटिंग, सुलेख हैं।

सभी स्केचिंग, सुलेख हैं।

निष्कर्ष :

I. कम से कम कुछ सुलेख, पेंटिंग हैं।

II. कोई स्केचिंग, पेंटिंग नहीं है।

(A) या तो निष्कर्ष I अनुसरण करता है या II अनुसरण करता है।

(B) न तो निष्कर्ष I अनुसरण करता है और न ही II अनुसरण करता है।

(C) केवल निष्कर्ष I अनुसरण करता है।

(D) केवल निष्कर्ष II अनुसरण करता है।

23. इस प्रश्न में, एक कथन के बाद दो निष्कर्ष दिए गए हैं। दोनों में से कौन-सा/से निष्कर्ष सत्य है/हैं?

कथन:

$$B = T < E \leq G > F = H > Q$$

निष्कर्ष : I. $G > Q$

II. $G > B$

(A) केवल निष्कर्ष I सत्य है।

(B) निष्कर्ष I और II दोनों सत्य हैं।

(C) केवल निष्कर्ष II सत्य है।

(D) न तो निष्कर्ष I और न ही II सत्य है।

24. उस विकल्प का चयन करें जो तीसरे शब्द से उसी प्रकार संबंधित है जिस प्रकार दूसरा शब्द पहले शब्द से संबंधित है। (शब्दों को अर्थपूर्ण हिन्दी के शब्दों के रूप में माना जाना चाहिए और इन्हें शब्द में अक्षरों की संख्या/व्यंजनों की संख्या/स्वरों की संख्या के आधार पर एक-दूसरे से संबद्ध नहीं किया जाना चाहिए।)

वाइन : सुरागार (सेलार) :: माल : ?

(A) अस्पताल (B) फर्श

(C) कमरा (D) गोदाम

25. उस समुच्चय का चयन कीजिए जिसमें संख्याएँ आपस में उसी प्रकार संबंधित हैं जिस प्रकार निम्नलिखित समुच्चयों की संख्याएँ आपस में संबंधित हैं। (नोट: संख्याओं को उसके घटक अंकों में विभाजित किए बिना, पूर्ण संख्याओं पर गणितीय संक्रियाएँ की जानी चाहिए। उदाहरण के लिए 13-गणितीय संक्रियाएँ जैसे कि जोड़ना/घटाना/गुणा करना इत्यादि 13 में किया जा सकता है। 13 को 1 और 3 में विभाजित करना और फिर 1 और 3 पर गणितीय संक्रियाएँ करने की अनुमति नहीं है।)

(137, 95, 67)

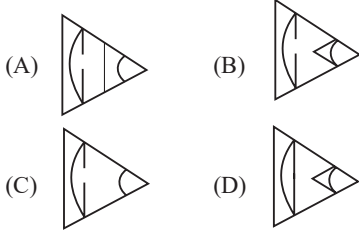
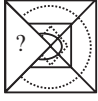
(246, 204, 176)

(A) (120, 84, 61)

- (B) (163, 112, 98)
 (C) (145, 103, 91)
 (D) (199, 157, 129)
26. दो कथनों के बाद दो निष्कर्ष I और II दिए गए हैं। कथनों को सत्य मानते हुए, भले ही वे सामान्य रूप से ज्ञात तथ्यों से भिन्न प्रतीत होते हों, यह निर्णय लीजिए कि कौन-सा/से निष्कर्ष कथनों का तार्किक रूप से अनुसरण करता है/ करते हैं।
कथन:
 कुछ वाहन हेलीकॉप्टर हैं। सभी हेलीकॉप्टर कार हैं।
निष्कर्ष:
 I. सभी वाहन कार हैं।
 II. कुछ वाहन कार हैं।
 (A) केवल निष्कर्ष II अनुसरण करता है।
 (B) न तो निष्कर्ष I और न ही II अनुसरण करता है
 (C) या तो निष्कर्ष I या II अनुसरण करता है
 (D) केवल निष्कर्ष I अनुसरण करता है
27. एक निश्चित कूट भाषा में, 'PLAY' को '54' के रूप में कूटबद्ध किया जाता है और 'HAPPY' को '66' के रूप में कूटबद्ध किया जाता है। उसी भाषा में 'SMILE' को किस रूप में कूटबद्ध किया जाएगा ?
 (A) 58 (B) 52
 (C) 54 (D) 62
28. निम्नलिखित चार अक्षर-समूहों में से तीन एक निश्चित तरीके से आपस में संगत है, जबकि कोई एक उनसे असंगत है। असंगत अक्षर-समूह का चयन करें।
 (A) KNPQ (B) BEGI
 (C) PSUV (D) MPRS
29. निम्नलिखित चार अक्षर-समूहों में से तीन एक निश्चित तरीके से आपस में संगत है, जबकि कोई एक उनसे असंगत है। असंगत अक्षर-समूह का चयन करें।
 (A) QOR (B) TQU
 (C) YVZ (D) JGK
30. उस विकल्प का चयन कीजिए जो दिए गए शब्दों के उस सही क्रम को निरूपित करता है जिस क्रम में वे अंग्रेजी शब्दकोश में आते हैं।
 1. Girders
 2. Giraffe
 3. Girasoles
 4. Girdingly
 5. Girming
 6. Girlish
 (A) 2, 3, 1, 6, 4, 5
 (B) 2, 1, 6, 4, 3, 5
- (C) 2, 1, 3, 6, 4, 5
 (D) 2, 3, 1, 4, 6, 5
31. P, Q, R, S, T, U और V सात मित्र हैं जिनकी आयु अलग-अलग है। R, 4 व्यक्तियों से बड़ा है। Q, R से बड़ा है लेकिन P से छोटा है। T, U से बड़ा है लेकिन S से छोटा है। U सबसे छोटा नहीं है। सभी में सबसे छोटा कौन है ?
 (A) P (B) S
 (C) V (D) Q
32. यदि + का अर्थ है, - का अर्थ \times है, \times का अर्थ \div है और \div का अर्थ + है, तो दिए गए समीकरण में प्रश्नवाचक चिह्न (?) के स्थान पर क्या आएगा?
 $10 \div 5 \times 5 - 30 + 3 = ?$
 (A) 45 (B) 37
 (C) 50 (D) 55
33. तीन कथनों के बाद तीन निष्कर्ष I, II और III दिए गए हैं। कथनों को सत्य मानते हुए, भले ही वे सामान्य रूप से ज्ञात तथ्यों से भिन्न प्रतीत होते हों, निर्धारित करें कि कौन-सा/से निष्कर्ष कथनों का तार्किक रूप से अनुसरण करता है/ करते हैं।
कथन :
 कोई भी फाइल फोल्डर नहीं है।
 कुछ फाइलें पीडीएफ हैं।
 सभी फाइलें एक्सेल शीट हैं।
निष्कर्ष :
 I. कुछ पीडीएफ फोल्डर हैं।
 II. कुछ एक्सेल शीट फोल्डर हैं।
 III. कुछ पीडीएफ एक्सेल शीट हैं।
 (A) केवल निष्कर्ष I और III अनुसरण करते हैं।
 (B) सभी निष्कर्ष अनुसरण करते हैं।
 (C) केवल निष्कर्ष III अनुसरण करता है।
 (D) केवल निष्कर्ष I और III अनुसरण करते हैं।
34. उस समुच्चय का चयन कीजिए जिसमें संख्याएँ आपस में उसी प्रकार संबंधित हैं जिस प्रकार निम्नलिखित समुच्चयों की संख्याएँ आपस में संबंधित हैं। (नोट: संख्याओं को उसके घटक अंकों में विभाजित किए बिना, पूर्ण संख्याओं पर गणितीय संक्रियाएं की जानी चाहिए। उदाहरण के लिए 13-गणितीय संक्रियाएं जैसे कि जोड़ना/घटाना/गुणा करना इत्यादि 13 में किया जा सकता है। 13 को 1 और 3 में विभाजित करना और फिर 1 और 3 पर गणितीय संक्रियाएँ करने की अनुमति नहीं है।)
 (52, 34, 43)
 (61, 33, 47)
 (A) (58, 26, 42) (B) (63, 41, 58)
 (C) (57, 35, 42) (D) (69, 30, 45)
35. एक निश्चित कूट भाषा में, 'SUM' को '212519' के रूप में कूटबद्ध किया जाता है और 'NET' को '16926' के रूप में कूटबद्ध किया जाता है। उसी भाषा में 'MOP' को किस रूप में कूटबद्ध किया जाएगा ?
 (A) 151822 (B) 151923
 (C) 221915 (D) 151922
36. निम्नलिखित समीकरण को संतुलित करने के लिए विकल्पों में दी गई किन दो संख्याओं को परस्पर बदलना होगा?
 $126 \div 23 - 138 \div (5 \times 4 - 6) + 4 = 1$
 (A) 138 और 126
 (B) 4 और 1
 (C) 23 और 138
 (D) 4 और 6
37. उस विकल्प का चयन करें, जो पाँचवें, अक्षर-समूह से उसी प्रकार संबंधित है, जिस प्रकार दूसरा अक्षर समूह पहले अक्षर-समूह से संबंधित है और चौथा अक्षर-समूह तीसरे अक्षर-समूह से संबंधित है।
 KITE : IFQA :: TIRE : RFOA :: :
 DIRE : ?
 (A) BFPA (B) BGOA
 (C) BGPA (D) BFOA
38. P, Q, R, S, T, U, V और X एक वर्गाकार मेज के चारों ओर मेज के केंद्र की ओर अभिमुख होकर बैठे हैं। उनमें से कुछ मेज के कोनों पर बैठे हैं, जबकि कुछ मेज की भुजाओं के ठीक मध्य में बैठे हुए हैं। P और R तिर्यक रूप से सम्मुख कोनों पर बैठे हैं। P, S के बाईं ओर दूसरे स्थान पर बैठा है। Q किसी भी भुजा के ठीक मध्य में नहीं बैठा है। V, R और S के बीच में बैठा है। X, V के दाईं ओर दूसरे स्थान पर बैठा है। S, T के ठीक बगल में नहीं बैठा है। V के दाईं ओर तीसरे स्थान पर कौन बैठा है?
 (A) P (B) Q
 (C) T (D) U
39. स्वप्निल रोज पार्क में घूमने जाता है। एक सुबह, वह अपने घर से चलना शुरू करता है और उत्तर की ओर 40 किमी चलता है। फिर वह दायीं ओर मुड़ता है और 60 किमी चलता है। वह फिर से दायीं ओर मुड़ता है और 40 किमी चलता है। अंत में, वह बायीं ओर मुड़ता है और 30 किमी चलता है। अब, वह अपने घर से किस दिशा में है?

- (A) पूर्व (B) दक्षिण
(C) पश्चिम (D) उत्तर

40. विकल्पों में से उस आकृति का चयन कीजिए, जो निम्न आकृति में प्रश्नचिह्न (?) के स्थान पर आकर पैटर्न को पूर्ण करेगी।



41. विकल्पों में दी गई कौन-सी संख्या निम्न संख्या श्रेणी में प्रश्नचिह्न (?) के स्थान पर आकर उसे पूर्ण करेगी।

4, 8, 11, 22, 25, 50, ?

- (A) 61 (B) 53
(C) 50 (D) 58

42. यदि A का अर्थ '+' है, B का अर्थ '×' है, C का अर्थ '-' है, और D का अर्थ '÷' है, तो निम्नलिखित समीकरण में '?' के स्थान पर क्या आएगा?

(90 C 9) D 9 B 9 A 9 = ?

- (A) 9 (B) 90
(C) 10 (D) 81

43. निम्नलिखित को एक तार्किक और सार्थक क्रम में व्यवस्थित करें।

1. भारत
2. पश्चिम बंगाल
3. पृथ्वी
4. एशिया
5. कोलकाता

- (A) 3, 4, 1, 2, 5
(B) 5, 1, 4, 2, 3
(C) 3, 2, 4, 1, 3, 5
(D) 3, 2, 5, 1, 4

44. निम्नलिखित में से कौन-सी संख्या दी गई श्रृंखला में प्रश्न चिह्न (?) के स्थान पर आएगी?

98, 118, 140, ?, 190, 218

- (A) 170 (B) 165
(C) 164 (D) 174

45. उस समूह का चयन करें जिसमें संख्याएँ उसी प्रकार संबंधित हैं, जिस प्रकार दिए गए समूह की संख्याएँ हैं। (नोट : गणितीय संक्रियाएँ संख्याओं को उसके घटक अंकों में विभाजित किए बिना, पूर्ण संख्याओं पर की जानी चाहिए। उदाहरण के लिए 13-13

पर गणितीय संक्रियाएँ जैसे कि 13 को जोड़ना/घटाना/गुणा करना आदि की जा सकती हैं। 13 को 1 और 3 के रूप में अलग करने और फिर 1 और 3 पर गणितीय संक्रियाएँ करने की अनुमति नहीं है।)

(111, 117, 123)

(169, 200, 231)

(A) (125, 135, 145)

(B) (129, 133, 139)

(C) (126, 138, 148)

(D) (169, 188, 199)

46. एक निश्चित कूट भाषा में, 'MODERATE' को 'FVDVJJVU' के रूप में लिखा जाता है और 'NINETEEN' को 'OGHXJTPV' के रूप में लिखा जाता है। उसी भाषा में 'OCCASION' को कैसे लिखा जाएगा?

(A) OQWLFJW

(B) WJIFWLQO

(C) OQLWFIHV

(D) OQLWFIJW

47. एक व्यक्ति की ओर इशारा करते हुए सुनंदा ने कहा, "वह मेरी पुत्री के पिता की माता के पति का इकलौता पुत्र है।" वह व्यक्ति सुनंदा से किस प्रकार संबंधित है?

(A) भाई (B) पुत्र

(C) पिता (D) पति

48. इस प्रश्न में तीन कथन और उसके बाद तीन निष्कर्ष I, II और III दिए गए हैं। आपको तीनों कथनों को सत्य मानना है, भले ही वे सामान्यतः ज्ञात तथ्यों से भिन्न प्रतीत होते हों। सभी निष्कर्षों को पढ़ें और फिर तय करें कि कौन-सा/से निष्कर्ष, दिए गए कथनों का तार्किक रूप से अनुसरण करता है/करते हैं।

कथन :

सभी फोटोकॉपियर, कंप्यूटर हैं।

कुछ कंप्यूटर, लैपटॉप हैं।

कोई लैपटॉप, मोबाइल नहीं है।

निष्कर्ष :

(I) कोई कंप्यूटर, मोबाइल नहीं है।

(II) कुछ कंप्यूटर, फोटोकॉपियर हैं।

(III) सभी मोबाइल, फोटोकॉपियर हैं।

(A) कोई भी निष्कर्ष अनुसरण नहीं करता।

(B) निष्कर्ष I, II और III सभी अनुसरण करते हैं।

(C) केवल निष्कर्ष III अनुसरण करता है।

(D) केवल निष्कर्ष II अनुसरण करता है।

49. 'A ^ P' का अर्थ है 'A, P का पति है'।

'A % P' का अर्थ है 'A, P का पिता है।

'A = P' का अर्थ है 'A, P की बहन है।

'A & P' का अर्थ है 'A, P की बेटी है।

यदि B % C ^ D & E है तो B, E से किस प्रकार संबंधित है?

(A) समधी (B) पति

(C) ताऊ/चाचा (D) भाई

50. छह व्यक्ति M, N, O, P, Q और R एक वृत्ताकार मेज के परितः केन्द्र की ओर मुख करके बैठे हैं। R, N के बाईं ओर दूसरे स्थान पर बैठा है। P, O और R दोनों के ठीक बगल में बैठा है। M, Q के बाईं ओर दूसरे स्थान पर बैठा है। P के दाईं ओर ठीक बगल में कौन बैठा है?

(A) M (B) N

(C) R (D) O

सामान्य जागरूकता

51. भारत में गुप्त शासकों ने _____ नामक बड़ी संख्या में सोने के सिक्के जारी किए।

(A) तामाररूप (B) रुपयारूप
(C) सुवर्णरूप (D) दीनार

52. ब्रह्मपुत्र को _____ में जमुना नदी के नाम से जाना जाता है।

(A) भारत (B) चीन
(C) बांग्लादेश (D) नेपाल

53. वर्णम, भारत के शास्त्रीय नृत्य _____ के चरणों में से एक है।

(A) सत्रिया (B) कथक
(C) कथकली (D) भरतनाट्यम

54. आई.सी.सी. (ICC) महिला क्रिकेट एक-दिवसीय अंतर्राष्ट्रीय विश्व कप 2022 कहाँ खेला गया था?

(A) दक्षिण अफ्रीका (B) ऑस्ट्रेलिया
(C) भारत (D) न्यूजीलैंड

55. 2020 में नेपाल में प्रति 100 महिलाओं पर पुरुष का अनुपात क्या था?

(A) 85.55 (B) 83.56
(C) 88.55 (D) 86.44

56. एज्हरा पोन्नाना को निम्नलिखित में से किस राज्य में मंदिर उत्सव के एक भाग के रूप में मनाया जाता है?

(A) कर्नाटक (B) केरल
(C) तेलंगाना (D) महाराष्ट्र

57. किस पंचवर्षीय योजना में भारत सरकार ने भारत की नई आर्थिक नीति शुरू की?

(A) सातवीं (B) आठवीं
(C) छठी (D) नौवीं

58. स्तंभ A का स्तंभ B से मिलान कीजिए।

स्तंभ A (तत्व)	स्तंभ B (% भूपर्पटी में)
(i) Si	(a) 46.6%
(ii) O	(b) 27.7%
(iii) Al	(c) 5.0%
(iv) Fe	(d) 8.13%

- (A) i-b, ii-c-, iii-a, iv-d
(B) i-a, ii-b, iii-c, iv-d
(C) i-b, ii-c, iii-d, iv-a
(D) i-b, ii-a, iii-d, iv-c
59. भारत के आवधिक श्रम बल सर्वेक्षण (PLFS) के संदर्भ में निम्नलिखित में से कौन-सा कथन सत्य नहीं है?
(A) यह भारत का पहला कंप्यूटर आधारित सर्वेक्षण था।
(B) इसकी अनुशासा अमिताभ कुंडू समिति ने की थी।
(C) इसे राष्ट्रीय सांख्यिकी कार्यालय द्वारा लॉन्च किया गया था।
(D) इसका इस्तेमाल भारतीय सशस्त्र बल द्वारा विशेष रूप से किया जाता था।
60. 1859 में रॉबर्ट विल्हेम बन्सेन ने किस भौतिक विज्ञानी के साथ मिलकर फ्लेम स्पेक्ट्रोस्कोपी का आविष्कार किया था, जो एक ऐसा उपकरण है जो तत्वों को उनके उत्सर्जन स्पेक्ट्रा द्वारा पहचानने की सुविधा देता है ?
(A) गुस्ताव रॉबर्ट किरचॉफ
(B) विलियम हाइड वोलास्टोन
(C) जेबीएल फौकॉल्ट
(D) जोहान बामर
61. निम्नलिखित में से कौन-सा विटामिन हमारे शरीर को हड्डियों और दाँतों के लिए कैल्शियम का उपयोग करने में मदद करता है?
(A) विटामिन B (B) विटामिन C
(C) विटामिन D (D) विटामिन A
62. भारत के सभी शीर्ष चार नागरिक पुरस्कारों से सम्मानित होने का दुर्लभ गौरव किसे प्राप्त है?
(A) बिस्मिल्लाह खान
(B) अली अकबर खान
(C) अमजद अली खान
(D) अल्लाह रक्खा
63. निम्नलिखित में से कौन-सा तृतीयक उपभोक्ता है?
(A) चिड़िया (B) गाय
(C) मछली (D) शेर
64. निम्नलिखित में से कौन-सा, पाकिस्तान का सबसे बड़ा जातीय समूह (ethnic group) है ?
(A) पश्तुन (B) पंजाबी
(C) सिंधी (D) बलोच
65. उस तत्व की पहचान कीजिए, जो उपधातु नहीं है।
(A) सोडियम (B) टेल्यूरियम
(C) पोलोनियम (D) ऐन्टिमनी
66. 1940 में वारली के _____ ने महाराष्ट्र में औपनिवेशिक नीतियों के खिलाफ विद्रोह किया।
(A) जनजातियों (B) व्यापारियों
(C) कारीगरों (D) सैनिकों
67. प्रसिद्ध उपन्यास 'चोखेर बाली' के लेखक कौन हैं?
(A) शरद चंद्र चटोपाध्याय
(B) बंकिम चंद्र चटर्जी
(C) मुंशी प्रेमचंद
(D) रबीन्द्रनाथ टैगोर
68. _____ राजनीति, अर्थशास्त्र, सैन्य रणनीति, राज्य के कार्य और सामाजिक संगठन से संबंधित एक भारतीय ग्रंथ है, जिसका श्रेय कौटिल्य को जाता है।
(A) अर्थशास्त्र
(B) नाट्य शास्त्र
(C) पंचसिद्धांतिका
(D) मनुस्मृति
69. प्रसिद्ध वादक पंडित किशन महाराज निम्नलिखित में से किस वाद्य यंत्र के वादन के लिए प्रसिद्ध हैं?
(A) सारंगी (B) बांसुरी
(C) तबला (D) सितार
70. हरित क्रांति के दौरान निम्नलिखित में से किस फसल युग को सबसे अधिक लाभ हुआ?
(A) चावल, गेहूँ
(B) प्याज, मक्का
(C) आलू, कपास
(D) चाय, कॉफी
71. मोरमुगाओ बंदरगाह कहाँ स्थित है?
(A) कोलकाता में (B) मंगलूर में
(C) मुंबई में (D) गोवा में
72. निम्नलिखित में से कौन प्रत्यक्ष कर का एक उदाहरण है?
(A) उत्पाद कर (B) सीमा शुल्क
(C) सेवा कर (D) धन कर
73. निम्नलिखित में से किस शहर में 72वीं फीफा (FIFA) कांग्रेस आयोजित की गई थी, जहाँ फीफा (FIFA) अध्यक्ष जियानी इन्फेंटिनो ने कहा कि नए फीफा (FIFA) फॉरवर्ड 3.0 कार्यक्रम में 25% की वृद्धि होगी?
(A) पेरिस (B) दोहा
(C) मास्को (D) मनामा
74. जैव उत्प्रेरक के लिए दूसरा शब्द क्या है?
(A) हॉर्मोन (B) ग्रंथि
(C) एंजाइम (D) पायसीकारक
75. निम्नलिखित में से कौन-सी केंद्रीय पीड़ित मुआवजा निधि योजना की विशेषता नहीं है?
(A) एसिड अटैक पीड़ितों को न्यूनतम ₹ 3 लाख का मुआवजा मिलता है
(B) रेप पीड़िताओं को न्यूनतम ₹ 3 लाख का मुआवजा मिलता है
(C) शारीरिक रूप से प्रताड़ित नाबालिगों को न्यूनतम ₹ 2 लाख का मुआवजा मिलता है।
(D) अगर पीड़िता की उम्र 14 वर्ष से कम होती है, तो 55% ज्यादा मुआवजा दिया जाता है।
76. जनवरी 2022 में, किस भारतीय टेनिस खिलाड़ी ने 2022 के टेनिस सत्र के बाद संन्यास लेने की घोषणा की है?
(A) रामनाथन कृष्णन
(B) सानिया मिर्जा
(C) महेश भूपति
(D) सुमित नागल
77. मेगस्थनीज ने मौर्यकालीन राजधानी पाटलिपुत्र में कितने द्वारों और मीनारों का उल्लेख किया था?
(A) 62 द्वार और 568 मीनार
(B) 60 द्वार और 574 मीनार
(C) 64 द्वार और 570 मीनार
(D) 66 द्वार और 576 मीनार
78. _____ चंद्रगुप्त मौर्य के दरबार में भेजा गया एक यूनानी राजदूत था?
(A) स्ट्रैबो
(B) अगार्थिसाइड्स
(C) मेगस्थनीज
(D) हेलियोडोरस
79. मौलिक अधिकारों को निम्नलिखित में से किस संविधान के "मौलिक अधिकारों" से लिया गया है?
(A) ऑस्ट्रेलिया
(B) यूके
(C) संयुक्त राज्य अमेरिका
(D) जर्मनी
80. भारत में ज्ञान पंचमी मुख्य रूप से निम्नलिखित में से किस समुदाय द्वारा मनाई जाती है?
(A) बौद्ध (B) सिख
(C) जैन (D) हिंदू
81. 'टू किल ए मॉकिंगबर्ड' नामक उपन्यास के/की लेखक/लेखिका निम्नलिखित में से कौन हैं?
(A) लियो टॉल्स्टॉय
(B) राल्फ एलिसन

- (C) गेब्रियल गार्सिया मार्केज़
(D) हार्पर ली
82. निम्नलिखित में से किस मुगल शासक ने अपने पिता के वसीयतनामे के अनुसार अपनी विरासत का बंटवारा किया?
(A) बाबर (B) शाहजहाँ
(C) हुमायूँ (D) अकबर
83. सिक्किम में निम्नलिखित में से कौन-सा समुदाय सागा दावा का त्यौहार मनाता है?
(A) बौद्ध (B) ईसाई
(C) हिंदू (D) जैन
84. राष्ट्रीय फिल्म पुरस्कार की सर्वश्रेष्ठ कोरियोग्राफी श्रेणी में सबसे पहले किसे सम्मानित किया गया था?
(A) जय बड़ोदे
(B) प्रभु देवा
(C) लक्ष्मीबाई कोल्हापुरकर
(D) समीर तन्ना
85. बंगाल में इंडियन एसोसिएशन की स्थापना निम्नलिखित में से किस वर्ष में हुई थी?
(A) 1876 (B) 1872
(C) 1879 (D) 1867
86. निम्नलिखित में से कौन-सा वलन (folds) एक विशेष प्रकार का वलन है, जिसमें असाधारण रूप से चपटा शीर्ष और खड़ी झुकी हुई भुजाएँ (steep inclined limbs) होती हैं, जो लगभग एक आयत की तीन भुजाएँ बनाती हैं?
(A) चौकोर वलन (B) एक्यूट वलन
(C) शिथिल वलन (D) बॉक्स वलन
87. निम्नलिखित में से किसे भारत में बेहतरीन बावड़ी के उदाहरण के रूप में माना जाता है?
(A) रानी की वाव
(B) अग्रसेन की बावली
(C) चाँद बावड़ी
(D) हम्पी बावड़ी
88. निम्नलिखित में से कौन-सा, प्रोटीन का पूर्ण स्रोत नहीं है?
(A) लाल मांस (B) दुग्ध-खाद्य
(C) अंडे (D) नट
89. 1941 में मुख्य रूप से ग्रेट इंडियन राइनो (भारतीय गैंडा-राइनोसिरस यूनिर्कोर्निस) के संरक्षण के लिए पश्चिम बंगाल में कौन-सा वन्यजीव अभयारण्य स्थापित किया गया था?
(A) जलदापारा वन्यजीव अभयारण्य
(B) पेरियार वन्यजीव अभयारण्य
(C) बरदा वन्यजीव अभयारण्य
(D) बांदीपुर वन्यजीव अभयारण्य
90. निम्नलिखित में से कौन-सा निवास स्थान बौद्ध भिक्षुओं द्वारा उपयोग किया जाता था?
(A) देरासर (B) विहार
(C) स्तूप (D) चैत्य
91. अरंडी का बीज _____ से भरपूर होता है।
(A) लिनोलेइक अम्ल
(B) लिनोलेनिक अम्ल
(C) रिक्विनेलेइक अम्ल
(D) ओलेइक अम्ल
92. एक प्रसिद्ध गायिका, एम.एल. वसंत कुमारी, निम्नलिखित में से किसके लिए प्रसिद्ध थीं?
(A) कर्नाटक संगीत
(B) लोक संगीत
(C) सूफी संगीत
(D) हिंदुस्तानी संगीत
93. स्टार्टअप इंडिया सीड फंड योजना, जिसे फरवरी, 2021 में भारत सरकार द्वारा शुरू किया गया था, को _____ से लागू किया गया था।
(A) 15 मार्च, 2021 (B) 15 अप्रैल, 2021
(C) 1 मई, 2021 (D) 1 अप्रैल, 2021
94. किस खेल में, जब दो खिलाड़ियों के बीच का स्कोर 40-40 होता है, तो इसे ड्यूस कहा जाता है?
(A) हॉकी (B) बैडमिंटन
(C) शतरंज (D) टेनिस
95. केंद्र ने फरवरी 2021 में भिखारियों और ट्रांसजेंडरों के कल्याण के लिए सामाजिक न्याय और अधिकारिता मंत्रालय के अंतर्गत एक राष्ट्रीय योजना शुरू करने की घोषणा की थी। वह योजना क्या है?
(A) प्रधानमंत्री स्वनिधि
(B) सपोर्ट फॉर मार्जिनलाइज्ड इंडीविजुवल लाइवलीहुड एंड इंटरप्राइजेज (SMILE)
(C) प्रधानमंत्री आवास योजना
(D) दीनदयाल अंत्योदय योजना (राष्ट्रीय शहरी आजीविका मिशन)
96. 10 अप्रैल, 2022 तक की स्थिति के अनुसार, किस राज्य से राज्यसभा में सदस्यों की संख्या सबसे अधिक है?
(A) मध्य प्रदेश (B) कर्नाटक
(C) राजस्थान (D) उत्तर प्रदेश
97. निम्नलिखित पर्वत शृंखलाओं का उत्तर से दक्षिण की ओर क्रम क्या होगा?
(1) जास्कर
(2) पीर पंजाल
(3) काराकोरम
(4) लद्दाख
(A) 2, 1, 4, 3 (B) 3, 4, 1, 2
(C) 1, 3, 4, 2 (D) 4, 3, 2, 1
98. उस कार्बनिक यौगिक का आई.यू.पी.ए. सी. (IUPAC) नाम क्या है, जिसका सूत्र $(\text{O}_2\text{N})_3\text{C}_6\text{H}_2\text{OH}$ है और जिसका उपयोग विस्फोटक, एंटीसेप्टिक दवा तथा एक स्थिरकारी (फिक्सेटिव) के रूप में किया जाता है?

- (A) 2, 3-ट्राइइथॉक्सीइथेन
(B) 2, 4, 6-ट्राइनाइट्रोफेनोल
(C) 1, 4-बेंजोक्विनोन
(D) 2, 4-ट्राइनाइट्रोजनडाइ ऑक्साइड
99. प्रत्येक वर्ष मकर संक्रांति का त्यौहार किस महीने में मनाया जाता है?
(A) मार्च (B) दिसंबर
(C) फरवरी (D) जनवरी
100. निम्नलिखित में से भारत के किस औद्योगिक क्षेत्र में हिंदुस्तान एयरोनॉटिक्स लिमिटेड (HAL) स्थित है?
(A) विशाखापट्टनम-गुंटुर
(B) हुगली
(C) बैंगलूर-चेन्नई
(D) छोटा नागपुर

ENGLISH LANGUAGE AND COMPREHENSION

101. Select the most appropriate synonym of the underlined word.
The National Leaders of India were imbued with qualities like leadership, nationalities and bravery.
(A) Sprinkled (B) Tinged
(C) Filled (D) Habituated
102. The following sentence has been split into four segments. Identify the segment that contains a grammatical error.
He did not hardly know / anyone in the city, / therefore, he felt homesick / all the time.
(A) He did not hardly know
(B) all the time
(C) anyone in the city
(D) therefore, he felt homesick
103. The following sentence has been divided into parts. One of them may contain an error.
Select the part that contains the error from the given options. If you don't find any error, mark 'No error' as your answer.
Saleem has a tendency to switch / off his mobile when things / are not favourable for him.
(A) off his mobile when things
(B) are not favourable for him
(C) No error
(D) Saleem has a tendency to switch
104. Select the most appropriate option that can substitute the underlined segment in the given sentence. If there is no need to substitute it, select 'No substitution'.
Having turned up on the proposal, I felt disappointed over the entire issue.
(A) No substitution

- (B) turning down
(C) turned down
(D) turning up
105. Select the option that expresses the given sentence in reported speech. My father said to me, "Slow and steady wins the race."
(A) My father taught me that slow and steady wins the race
(B) My father taught me that slow and steady has won the race.
(C) My father told me that slow and steady has won the race.
(D) My father told me that slow and steady win the race.
106. Select the most appropriate ANTONYM of the given word.
Solitude
(A) Ex-serviceman
(B) Individual
(C) Company
(D) Victim
107. Select the most appropriate ANTONYM of the given word.
Blitz
(A) Obtuse (B) Harm
(C) Kill (D) Attack
108. Select the option that gives the most appropriate meaning of the following word.
Viable
(A) Insatiable
(B) Feasible
(C) Formidable
(D) Disposable
109. Select the most appropriate ANTONYM of the given word.
Defile
(A) Corrupt (B) Clean
(C) Befoul (D) Tarnish
110. Select the option that expresses the given sentence in indirect speech.
The lady said, "Most of the trains are running late today."
(A) The lady said that most of the trains were running late today.
(B) The lady said that most of the trains were running late that day.
(C) The lady said that most of the trains are running late that day.
(D) The lady said that most of the trains were running late the next day.
111. The following sentence has been divided into parts. One of them may contain an error. Select the part that contains the error from the given options. If you don't find any error, mark 'No error' as your answer.
The world will / not stop for you, / it will keep on going.
(A) it will keep on going
(B) The world will
(C) No error
(D) not stop for you
112. Select the most appropriate meaning of the given idiom.
Blow hot and cold
(A) Rebuking
(B) Tormenting
(C) Vacillating
(D) Critiquing
113. Select the option that expresses the given sentence in indirect speech.
Simon said to me, "He is not well."
(A) Simon told me that he was not well.
(B) Simon told him that I am not well.
(C) Simon told me that he is not well.
(D) Simon told him that he was not well.
114. Select the option that expresses the given sentence in reported speech.
Shreya said, "I have been feeling very hungry."
(A) Shreya said that she have been feeling very hungry.
(B) Shreya said that she has been feeling very hungry.
(C) Shreya said that she was feeling very hungry.
(D) Shreya said that she had been feeling very hungry.
115. Choose the correct meaning of the given idiom.
By leaps and bounds
(A) Stealthily (B) Abruptly
(C) Rapidly (D) Slowly
116. Select the most appropriate option that can substitute the underlined segment in the given sentence. If there is no need to substitute it, select 'No substitution'.
Music soothes and relieves you of any stress and negative emotions.
(A) soothe and reliefs
(B) would soothes and relief
(C) will soothe and relief
(D) No substitution
117. Select the most appropriate option that can substitute the underlined segment in the given sentence.
Right in the valley was a huge, ancient edifice, possibly/obviously belonging to the Middle Ages.
(A) archaic (B) medieval
(C) modern (D) gothic
118. In the following passage, some words have been deleted. Read the passage carefully and select the most appropriate option to fill in the blanks. Scientists have determined that the human tongue is attuned to several (1)_____like sweet, salty, bitter, sour, savoury and possibly fat. Telling the difference between these tastes was crucial for human (2)_____.
(A) relish, live
(B) flavours existence
(C) season; reality
(D) tang; alive
119. Select the most appropriate synonym of the given word.
Capable
(A) Seasoned (B) Willing
(C) Suitable (D) Reliable
120. The following sentence has been divided into parts. One of them may contain an error. Select the part that contains the error from the given options. If you don't find any error, mark 'No error' as your answer.
He was happy because / his friends voted/in favour to him.
(A) his friends voted
(B) in favour to him
(C) He was happy because
(D) No error
121. Select the most appropriate option that can substitute the underlined segment in the given sentence. If there is no need to substitute it, select 'No substitution required'.
You can follow the instructions faithful, to avoid being disqualified.
(A) should follow the instructions faithfully
(B) cannot follow the instructions faithfully
(C) shall be followed by the instructions faithfully
(D) No substitution required
122. Select the option that expresses the given sentence in indirect speech.
Mr. Collin said, "Let me deliver the letters to the postman".
(A) Mr. Collin requested that he might be allowed to deliver the letters to the postman.
(B) Mr. Collin suggested with joy that he wished to deliver the letters to the postman.
(C) Mr. Collin said that let he be allowed to deliver the letters to the postman.
(D) Mr. Collin asked if he was allowed to deliver the letters to the postman.

123. Select the option that expresses the given sentence in passive voice.
His father fed the kids every day.
(A) The kids had been fed by the father every day.
(B) The kids were fed by his father every day.
(C) The kids were being fed by his father every day.
(D) The kids have been fed by his father every day.
124. Select the option that expresses the given sentence in passive voice.
People don't use this road much.
(A) This road cannot be used much by people.
(B) This road isn't used much.
(C) This road isn't much used by people.
(D) This road isn't used much by public.
125. Select the option that expresses the given sentence in passive voice.
He had not committed the mistake.
(A) The mistake was not committed by him.
(B) The mistake has not been committed by him.
(C) Had the mistake been committed by him?
(D) The mistake had not been committed by him.
126. Select the most appropriate synonym of the given word.
Obligation
(A) Belief (B) Law
(C) Duty (D) Rule
127. The following sentence has been divided into parts. One of them may contain an error. Select the part that contains the error from the given options. If you don't find any error, mark 'No error' as your answer.
He is faster enough / to defeat / the current record holder.
(A) He is faster enough
(B) the current record holder
(C) to defeat
(D) No error
128. Select the option that expresses the given sentence in passive voice. Mr. Gupta and his brothers remodelled their house to help it sell.
(A) Their house was to be remodelled by Mr. Gupta and his brothers to help it sell.
(B) Their house was remodelled by Mr. Gupta and his brothers to help it sell.
(C) Their house was being remodelled by Mr. Gupta and his brothers to help it sell.
(D) Their house is remodelled by Mr. Gupta and his brothers to help it sell.
129. Select the most appropriate option that can substitute the underlined segment in the given sentence.
How much books do you think can this box hold ?
(A) very books
(B) any books
(C) many books
(D) little books
130. Select the most appropriate synonym for the underlined word in the given sentence.
They feared the ignominy of being exposed asspies.
(A) ignorance (B) result
(C) dishonour (D) harm
131. Select the option that expresses the given sentence in passive voice.
Daniel is buying a car.
(A) A car is bought by Daniel.
(B) A car is buy by Daniel.
(C) A car were being bought by Daniel
(D) A car is being bought by Daniel.
132. Select the most appropriate option that can substitute the underlined segment in the given sentence. If there is no need to substitute it, select 'No substitution required'.
Ria's mother equally divided the chocolates among both her daughters.
(A) No substitution required
(B) among
(C) between
(D) amongst
133. The following sentence has been split into four segments. Identify the segment that contains a grammatical error.
The doctors claim to discover / a cure for cancer, / and the medicine will be put / to test very soon.
(A) to test very soon
(B) and the medicine will be put
(C) a cure for cancer
(D) The doctors claim to discover
134. Select the most appropriate meaning of the given idiom.
At the eleventh hour
(A) In the evening
(B) In the morning
(C) At the last moment
(D) At night
135. Select the option that expresses the given sentence in passive voice.
Nargis quickly picks out the important files from her office shelf.
(A) The important files will be quickly picked out by Nargis from her office shelf.
(B) The important files have quickly been picked out by Nargis from her office shelf.
(C) The important files are quickly being picked out by Nargis from her office shelf.
(D) The important files are quickly picked out by Nargis from her office shelf.
136. Select the option that expresses the given sentence in indirect speech.
"Leave me alone" yelled the little boy in the movie, "or else I will start shouting loudly."
(A) The little boy wanted to be left alone or else he will start shouting loudly.
(B) The little boy requested to be left alone or else he would start shouting loudly.
(C) The little boy in the movie cried to be left alone or else he shall start shouting loudly.
(D) The little boy in the movie shouted that he should be left alone or else he would start shouting loudly.
137. Select the most appropriate option that can substitute the underlined segment in the given sentence. If there is no need to substitute it, select 'No substitution'.
They're buying appliances from there friends who were moving to their hometown.
(A) from their friends
(B) from they're friends
(C) from them friends
(D) No substitution
138. Select the most appropriate synonym of the given word.
Omission
(A) Skipper (B) Deletion
(C) Maintain (D) Accrual
139. Choose the appropriate meaning of the underlying idiom.
They got into hot water when their tricks were revealed by their neighbour.
(A) Landed in trouble
(B) Were thoroughly familiar with
(C) Made fun of
(D) Took the help of

140. Choose the option that rectifies the grammatical errors in the given sentence.
The mason is building the house in the corner.
(A) The house in the corner are being build by the mason.
(B) The house in the corner is being build to the mason.
(C) The house in the corner is being build by the mason.
(D) The house in the corner is being built by the mason.
141. Select the option that expresses the given sentence in passive voice.
His parents will send him to a boarding school next year.
(A) He is to be sent to a boarding school next year by his parents.
(B) He will be sent to a boarding school by his parents next year.
(C) He would be sent to a boarding school next year by his parents.
(D) He will be sent to a boarding school next year by his parents.
142. The following sentence has been divided into parts. One of them may contain an error. Select the part that contains the error from the given options. If you don't find any error, mark 'No error' as your answer.
She talked enormous/ of what she wanted / from her education.
(A) from her education
(B) She talked enormous
(C) of what she wanted
(D) No error
143. Select the most appropriate option that can substitute the underlined segment in the given sentence. If there is no need to substitute it, select 'No substitution required'.
Ben was always been a good father.
(A) had been always
(B) had always been
(C) No substitution required
(D) was always being
144. Select the option that expresses the given sentence in passive voice. The scholar of the department could help the junior students in the proposed coaching.
(A) The junior students could be helped by the scholar of the department in the proposed coaching.
(B) The junior students could have helped by the scholar of the department in the proposed coaching.
(C) The junior students can help by the scholar of the department in the proposed coaching.
(D) The junior students could have been helped by the scholar of the department in the proposed coaching.
145. Select the most appropriate option that can substitute the underlined segment in the given sentence.
Tapan face a very difficult situation during the whole lockdown period and seeing him go through all this, I forgave his ardonable mistakes.
(A) Credulous
(B) Impervious
(C) Extempore
(D) Venial
146. Select the most appropriate option that can substitute the underlined segment in the given sentence. If there is no need to substitute it, select 'No substitution'.
It was getting difficult for him to bear with his partner's behaviour.
(A) No substitution
(B) to bank on
(C) to bail out
(D) to bear out
147. Select the option that expresses the given sentence in indirect speech.
My grandfather said, "Always respect the National Flag".
(A) My grandfather said that respect the national flag always.
(B) My grandfather advised me to respect the national flag always.
(C) My grandfather asked if I respect the national flag always.
(D) My grandfather wished to respect the national flag always.
148. Select the option that expresses the given sentence in direct speech.
Meenal asked Jay where Gauri can be found.
(A) "Can I find Gauri ?" Meenal asked Jay.
(B) "Where do I find Gauri ?" Jay asked Meenal.
(C) "Where to find Gauri ?" Meenal asked Jay.
(D) "Where can I find Gauri ?" Meenal asked Jay.
149. Select the most appropriate option that can substitute the underlined segment in the given sentence. If there is no need to substitute it, select 'No substitution'.
The most memory time of Diwali is when you light diyas with your family.
(A) most agonising time
(B) most memorable time
(C) most memorising time
(D) No substitution
150. Select the option that expresses the given sentence in active voice.
When will the dress be returned?
(A) When shall you return the dress?
(B) When will you be returning the dress?
(C) When would you return the dress?
(D) When will you return the dress?
151. Select the most appropriate synonym of the given word.
Exaggeration
(A) Amplification
(B) Segregation
(C) Fortification
(D) Addition
152. Select the option that expresses the given sentence in indirect speech.
"I've just bought a car," said Amar, "But it isn't insured yet. So I cannot take you for a ride."
(A) Amar said that he had just bought a car but it wasn't insured till then. So, he could not take me for a ride.
(B) Amar said that he had just bought the car but it wasn't insured till then. So, he could not take me for a ride.
(C) Amar said that he just bought a car but it wasn't insured till then. So, he could not take me for a ride.
(D) Amar said that he had just bought a car but it wasn't insured till then. So, he could not be taken for a ride.
153. Select the option that gives the most appropriate meaning of the following word.
Crude
(A) Processed (B) Natural
(C) Damp (D) Refined
154. The given sentence is divided into three segments. Select the option that has the segment with a grammatical error. If there is no error, select 'no error' as your answer.
She will be a / successful lawyer in / the next few years.
(A) No error
(B) successful lawyer in
(C) the next few years
(D) She will be a

155. Select the option that expresses the given sentence in direct speech.
The reporter said that an event had been organised for the President the previous day.
- (A) The reporter said, "Let us organise an event for the President the next day."
(B) The reporter said. "An event was organised for the President yesterday."
(C) The reporter said. "An event is organised for the President today."
(D) The reporter said, "An event is organised for the President yesterday."
156. Select the most appropriate synonym of the given word.
Seizure
(A) Governance
(B) Demonstration
(C) Capture
(D) Stealing
157. Select the most appropriate ANTONYM of the underlined word.
Until recently, 3D printing has been sugar-based, but technology is emerging that reliably prints savoury and fresh ingredients.
(A) Sweet (B) Musty
(C) Pungent (D) Rancid
158. Select the most appropriate option to fill in the blank.
The thief _____ entered the house.
(A) quietly (B) quite
(C) quitely (D) quit
159. The following sentence has been split into four segments. Identify the segment that contains a grammatical error.
He is/able/to/play flute.
(A) to
(B) able
(C) He is
(D) play flute
160. Select the grammatically correct sentence.
(A) The scholastic arguments of an scientist had the great impact on the visiting students.
(B) A scholastic arguments of the scientist had the great impact on the visiting students.
(C) The scholastic arguments of a scientist had an great impact on the visiting students.
(D) The scholastic arguments of the scientist had a great impact on the visiting students.
161. Select the most appropriate option that can substitute the underlined segment in the given sentence. If there is no need to substitute it, select 'No substitution'.
Some children surprisingly take on their grandparents in appearance.
(A) taking after
(B) No substitution
(C) take after
(D) take later
162. Select the option that expresses the given sentence in passive voice.
The lion was chasing the stag behind the bush.
(A) The stag had been chased by the lion behind the bush.
(B) The stag was chased by the lion behind the bush.
(C) The stag is being chased by the lion behind the bush.
(D) The stag was being chased by the lion behind the bush.
163. Select the most appropriate meaning of the given idiom.
Take away your breath
(A) Astonishing
(B) Falling in love
(C) Exhausting
(D) Killing
164. The following sentence has been divided into parts. One of them may contain an error. Select the part that contains the error from the given options. If you don't find any error, mark 'No error' as your answer.
By next March, / we will had been / living here for ten years.
(A) By next March,
(B) we will had been
(C) No error
(D) living here for ten years
165. Parts of the following sentence have been given as options. Select the option that contains a grammatical error. If you don't find any error, mark 'No error' as your answer.
They come to me / yesterday to convince me / to settle the issue with my rival.
(A) No error
(B) yesterday to convince me
(C) They come to me
(D) to settle the issue with my rival.
166. Select the option that expresses the given sentence in indirect speech.
The team manager said, "Let's have some refreshments."
(A) The team manager regretted that we should have some refreshments.
(B) The team manager requested that we should have some refreshments.
(C) The team manager suggested that we may have some refreshments.
(D) The team manager suggested us to have some refreshments.
167. Select the option that expresses the given sentence in passive voice.
Mary was cooking the meal.
(A) The meal were being cooked by Mary.
(B) The meal was already being cooked by Mary.
(C) Mary was about to cook the meal.
(D) The meal was being cooked by Mary.
168. The given sentence is divided into three segments. Select the option that has the segment with a grammatical error. If there is no error, select 'no error' as your answer.
Rosa will have / graduate from a reputed / university in 4 years.
(A) graduate from a reputed
(B) Rosa will have
(C) No error
(D) university in 4 years
169. Select the most appropriate synonym of the given word.
Confess
(A) Dissimulate
(B) Acknowledge
(C) Veil
(D) Deny
170. The following sentence has been divided into parts. One of them may contain an error. Select the part that contains the error from the given options. If you don't find any error, mark 'No error' as your answer.
Not only will he take admission here / but also he will stay / in the hostel.
(A) but also he will stay
(B) Not only will he take admission here
(C) No error
(D) In the hostel

Direction (Q. No. 171 to 175)

Read the following passage and answer the questions that follow.

With the second-largest population in the world, India is home to over 1.3 billion people. At an average of two children born per woman in 2018, the country's birth rate stood at 18.6 for every thousand inhabitants. The average life expectancy has seen a

consistent increase since the 1920s and was around 69 years in 2019. However, this was still lower than the global average of around 72 years. That same year, the country's death rate was recorded at about 7.3 deaths for every thousand inhabitants. Infant mortality has also been on a steady decline over the years due to increased attention to providing special newborn care units, routine immunization and access to basic mother and child care facilities. Moreover, female infanticide and gender-selective abortions have seen a relative decline in the country ever since government regulations made such procedures illegal.

Despite these positive indicators, India had the highest number of undernourished people in the Asia Pacific region. And even though undernourishment was largely seen among low income families, it was surprisingly also observed among Indians who were from higher socioeconomic classes. Growing fast food consumption, unhealthy diet trends and an inactive lifestyle were some of the main contributing factors for this. A large-scale survey from 2019 found that 70 percent of Indian women and 59 percent Indian men were unhealthy based on their diet and lifestyle. Heart disease has been one of the leading causes of death in India for over two decades, along with an increasing propensity for cancer and diabetes. India has made significant progress in reducing the number of vector-borne disease fatalities, but it remains a problem in many regions of the country. In 2020, the country recorded the highest number of malaria cases throughout the Asia Pacific region. Other life-threatening diseases that were prevalent in the country were dengue, typhoid, tuberculosis, and HIV-AIDS.

Based on the passage above choose the correct option for the following questions.

171. Which of the following is true about the average life expectancy of India?
 (A) Average life expectancy of India is consistent since centuries now
 (B) Average life expectancy of India is at its all time low
 (C) Average life expectancy of India is consistently rising
 (D) Average life expectancy of India is the highest in Asia-Pacific region
172. What is the leading cause of death in India?
 (A) Heart diseases
 (B) Tuberculosis
 (C) Cancer
 (D) Diet and lifestyle
173. What is the main reason behind high undernourished people in India?
 (A) Genetic disorders

- (B) Frequent religious fasts
 (C) Low income family
 (D) Unhealthy eating habit

174. Which of the following diseases has not been prevalent in the country since a few years?
 (A) Malaria (B) Polio
 (C) Typhoid (D) Dengue
175. Which of the following is true according to the above passage?
 (A) India has the highest number of undernourished people across the globe
 (B) India is home to over 1.3 billion people
 (C) India is free of vector-borne diseases
 (D) India has the second largest population in the world.

Direction (Q. No. 176 to 180)

Read the following passage and answer the questions that follow.

Americans are looking to get out of town after a year of virus-related travel restrictions. Figuring out where they can go and what will be open when they get there remain tricky—for both would-be tourists and travel companies. Signs that consumers are ready to travel again are growing, with rising searches for airfares and activity on booking sites. Travel companies are providing tools to help make sense of restrictions and spur bookings, but a hazy outlook for international trips suggests domestic destinations will see the strongest demand.

Diana Zucknick and her husband, Paul, visited 14 countries in the five years before Covid-19 caused them to hunker down at their Austin, Texas, home. Now that both are vaccinated, they are anxious to resume traveling. As they sat down to plan travel, Ms. Zucknick said, they pondered questions they hadn't considered before: Which countries will allow Americans in? Would they face a lengthy quarantine or be putting others at risk? How safe are layovers?

Hong Kong had been high on their list, she said, but the logistics of that trip amid current travel restrictions, including a 21-day quarantine requirement, seemed daunting. "There are so many variables," she said. "Everything is up in the air." Ms. Zucknick, 38 years old, has yet to make a booking. So far they have traveled only in Texas. Market-research firm AirDNA, which tracks business on Airbnb Inc. and rival home-rental site Vrbo, said bookings made in the U.S. in February reached their highest monthly level since it began tracking the industry in 2015. Those figures included reservations for future stays. Based on the passage above choose the correct option for the following questions.

176. What seemed daunting about travelling to Hong Kong?
 (A) Layovers
 (B) Entry to Americans
 (C) 21-day long quarantine
 (D) Long queues at the airport
177. Which of the following is not true according to the passage?
 (A) Airbnb is the largest travel agency in the U.S
 (B) Zucknicks are based at Texas
 (C) Zucknicks have travelled to 14 countries in 5 years before covid
 (D) Americans are keen on resuming travel.
178. According to the passage, what is still tricky about resuming travel?
 (A) Which mode of transport is safest
 (B) Which travel agency to choose for bookings
 (C) What to do in the long quarantine
 (D) What will be open when they reach the destination
179. The travel bookings were at highest monthly level in the U.S in the month of.....
 (A) June (B) May
 (C) February (D) April
180. Where have the Zucknicks travelled post virus scare?
 (A) Within Texas
 (B) USA
 (C) Australia
 (D) Hong Kong

Direction (Q. No. 181 to 185)

In the following passage, some words have been deleted. Read the passage carefully and select the most appropriate option to fill in each blank.

Literacy is a very important quality of a population. (1)_____an informed and educated citizen can make (2)_____ choices and undertake research and development (3)_____. Low levels of literacy are a (4)_____obstacle for economic improvement. In India (5)_____ has been a steady improvement in the literacy levels.

181. Select the most appropriate option to fill in blank number 1.
 (A) The (B) One
 (C) Only (D) Who
182. Select the most appropriate option to fill in blank number 2.
 (A) best (B) many
 (C) intelligent (D) the
183. Select the most appropriate option to fill in blank number 3.

- (A) houses (B) projects
(C) construction (D) roads

184. Select the most appropriate option to fill in blank number 4.

- (A) minor (B) new
(C) biggest (D) serious

185. Select the most appropriate option to fill in blank number 5.

- (A) their (B) it
(C) there (D) here

Direction (Q. No. 186 to 190)

In the following passage, some words have been deleted. Read the passage carefully and select the most appropriate option to fill in each blank.

The average weather in a location over several years is (1)_____ to as the climate. Climate change is characterised by a (2) _____ in those average circumstances. The fast climate change we are presently witnessing is the result of humans' (3) _____ of oil, gas, and coal in their homes, industry, and transportation. When these fossil fuels are (4). _____, they emit greenhouse gases, mostly carbon dioxide (CO₂). These gases capture the Sun's heat, raising the planet's (5)_____.

186. Select the most appropriate option to fill in blank number 1.

- (A) known (B) called
(C) said (D) referred

187. Select the most appropriate option to fill in blank number 2.

- (A) glance (B) chance
(C) shift (D) decline

188. Select the most appropriate option to fill in blank number 3.

- (A) spill (B) wastage
(C) purchase (D) usage

189. Select the most appropriate option to fill in blank number 4.

- (A) burned
(B) fused
(C) refined
(D) decomposed

190. Select the most appropriate option to fill in blank number 5.

- (A) pollution (B) pressure
(C) temperature (D) humidity

Direction (Q. No. 191 to 195)

In the following passage, some words have been deleted. Read the passage carefully and select the most appropriate option to fill in each blank.

There are (1)_____ when everyone has to face grief. When someone dear to oneself dies, one is left in a state in which shock

and grief (2)_____ the ordinary life. One is left in a situation when one feels there is nothing one can do. Grief and mourning are not always associated with only death. It also happens with other types of losses. It could be the loss of one's job, loss of one's house or the loss of a close friend or a partner.

The best people who are able to cope with these are those, who come from cultures that have strict, formal (3) _____ intensive mourning rituals. In India, we have diverse rituals which nowadays are being discarded. But these help in the crisis. The near and dear ones come to share the grief and apply balm with their words of solace. In mourning, it is an essential part of coming (4)_____ terms with loss. There comes a time when one has to give up one's grief and re-join the mainstream of life. Mourning in itself passes through these phases. Firstly, it is in the nature of shock and disbelief. A feeling of numbness overtakes. The brain is not in a position to (5)_____ it so happens that one expects the arrival of a loss thinking that nothing will change and he will be with the lost one. In the second phase, one realises the truth that the loss has actually happened, and was not a dream. It is now that one feels the pain. Now one recollects the old moments and the memory of guilt creeps in.

191. Select the most appropriate option to fill in blank number 1.

- (A) flashes (B) times
(C) jiffies (D) time

192. Select the most appropriate option to fill in blank number 2.

- (A) rout (B) overcome
(C) thrash (D) annihilate

193. Select the most appropriate option to fill in blank number 3.

- (A) and (B) or
(C) but (D) also

194. Select the most appropriate option to fill in blank number 4.

- (A) off (B) of
(C) to (D) on

195. Select the most appropriate option to fill in blank number 5.

- (A) assent (B) accept
(C) abide (D) concede

Direction (Q. No. 196 to 200)

In the following passage, some words have been deleted. Read the passage carefully and select the most appropriate option to fill in each blank.

When trust is broken, as it is being done often in the present-day world, the world seems upside down for the people who are suffering due to their trust being broken. When close friends or close relatives break their (1)_____ it is (2)_____ natural to feel hurt and experience misery. But, (3)_____ a grudge or waiting to take revenge damages both, mental and physical health. This is a very crucial stage for anybody. One needs to understand that he is already suffering and negative emotions like revenge, grudge, and anger will let him/her down completely. What should one do when (4)_____ trust is broken is the question. Mind coaches, religious gurus and wellness trainers suggest a noble quality of 'Forgiveness'. It is the quality which we need to practice for our own well-being. It does not simply mean forgetting what happened. It is understanding from others' point of view. If there is something comprehensible, we can try to repair the relationship. Forgiveness helps to be good and makes one stand high in every human relation. So, forgiveness is not only powerful but also power giving. The entire world, along with the lives of the people in it, (5)_____ on trust.

196. Select the most appropriate option to fill in blank number 1.

- (A) trusts (B) trust
(C) the trust (D) a trust

197. Select the most appropriate option to fill in blank number 2.

- (A) quite (B) more
(C) quiet (D) much

198. Select the most appropriate option to fill in blank number 3.

- (A) holding (B) hold
(C) grab (D) grabbing

199. Select the most appropriate option to fill in blank number 4.

- (A) her (B) one's
(C) his (D) their

200. Select the most appropriate option to fill in blank number 5.

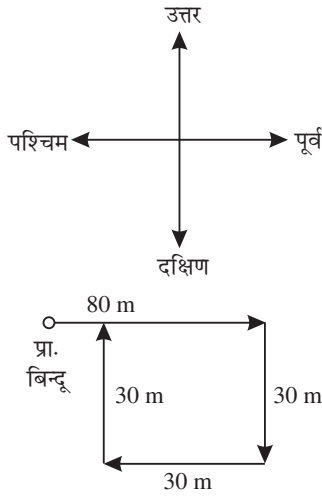
- (A) operated
(B) have operated
(C) operate
(D) operates

व्याख्यात्मक हल

सामान्य बुद्धिमत्ता और तर्कशक्ति

1. (C) पैटर्न: (पहली संख्या + दूसरी संख्या)
= तीसरी संख्या
 $17 + 87 = 104$
 $20 + 102 = 122$
उसी प्रकार,
 $13 + 67 = 80$

2. (D)



$$\begin{aligned} \text{अभीष्ट दूरी} &= 80 - 30 \\ &= 50 \end{aligned}$$

अतः राहुल अपने मूल स्थान से 50 m दूर है।

3. (D) जिस प्रकार
 $(7 + 9)^2 + 1 = (16)^2 + 1$
 $= 256 + 1 = 257$
 $(10 + 3)^2 + 1 = (13)^2 + 1$
 $= 169 + 1 = 170$

उसी प्रकार

$$\begin{aligned} (6 + 9)^2 + 1 &= (15)^2 + 1 \\ &= 225 + 1 = 226 \end{aligned}$$

पैटर्न : (पहली संख्या + दूसरी संख्या)²
+ 1 = तीसरी संख्या

4. (C) 2800 वर्षों में विषम दिनों की संख्या = 0
200 वर्षों में विषम दिनों की संख्या = 3
14 वर्षों में विषम दिन = $14 + 2$
 $= \frac{16}{7}$
 $= 2$ विषम दिन
वर्ष 3015 में विषम दिनों की संख्या
 $3 + 2 = 5$
कुल विषम दिन = $0 + 3 + 2 + 5$
 $= \frac{10}{7} \Rightarrow 1$ सप्ताह
+ 3 विषम दिन

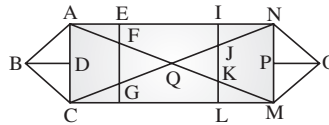
'3' विषम दिन 'गुरुवार' को इंगित करता है। अतः 2 फरवरी 3015 को गुरुवार होगा।

5. (A) $A \rightarrow +$ $C \rightarrow -$
 $B \rightarrow \times$ $D \rightarrow \div$
 $124 C 5 B 23A 56 D 8$
चिह्नों को रखने पर
 $\Rightarrow 124 - 5 \times 23 + 56 \div 8$
 $\Rightarrow 124 - 5 \times 23 + 7$
 $\Rightarrow 124 - 115 + 7$
 $\Rightarrow 131 - 115$
 $\Rightarrow 16$

6. (C) TSOPM / TSOPM / TSOP
M / TSOPM
TSOPM की पुनरावृत्ति हो रही है।
अतः OPOMSMTP श्रृंखला को पूर्ण करेगा।

7. (C) $7 \times 1 + 1^3 = 8$
 $8 \times 2 - 2^3 = 8$
 $8 \times 3 + 3^3 = 51$
 $51 \times 4 - 4^3 = 140$
 $140 \times 5 + 5^3 = 825$

8. (B)



ΔABD , ΔBDC , ΔABC , ΔNPO ,
 ΔPMO , ΔMNO
 ΔAEF , ΔCGH , ΔFGQ , ΔJKQ ,
 ΔKLM , ΔJIN , ΔJQK
 ΔAQN , ΔCQM , ΔCMN , ΔANC ,
 ΔAMN , ΔAQC
 ΔMQN , ΔENG , ΔAIK , ΔCJL ,
 ΔFHM

अतः दी गई आकृति में 24 त्रिभुज हैं।

9. (B) ऊपर बायें कोने का तीर एक भुजा दक्षिणावर्त दिशा में घूम रहा है। मध्य तीर हर बार पलट जाता है तथा काला से सफेद फिर सफेद से काला हो जाता है। ऊपर दायें कोने का त्रिभुज वामावर्त दिशा में एक भुजा घूम रहा है तथा काले से सफेद फिर सफेद से काला हो रहा है। इस प्रकार अगली आकृति विकल्प (B) होगी।

10. (B) $T \rightarrow G \rightarrow T$
 $J \xrightarrow{-6} D \xrightarrow{-6} X$
 $A \xrightarrow{+15} P \xrightarrow{+15} E$
 $P \xrightarrow{+8} X \xrightarrow{+8} F$
 $T \rightarrow G \rightarrow T$
 $X \rightarrow R \rightarrow L$
 $E \xrightarrow{+15} T \xrightarrow{+15} I$
 $F \xrightarrow{+8} N \xrightarrow{+8} V$
? = T X E F

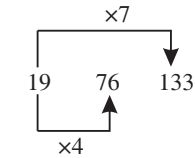
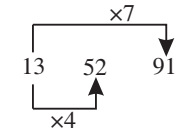
11. (D) श्रृंखला का क्रम निम्नवत् है—

$$\begin{array}{ccccccc} Q \xrightarrow{+2} S \xrightarrow{+2} U & \xrightarrow{+2} W \xrightarrow{+2} Y \\ H \xrightarrow{-2} F \xrightarrow{-2} D & \xrightarrow{-2} B \xrightarrow{-2} Z \\ J \xrightarrow{+2} L \xrightarrow{+2} N & \xrightarrow{+2} P \xrightarrow{+2} R \end{array}$$

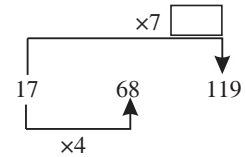
12. (C) H 2 @ 5 % 8 N
प्रश्न आकृति

विकल्प (C) सही दर्पण प्रतिबिम्ब है।

13. (A) जिस प्रकार



उसी प्रकार,



14. (B)



I. कुछ नाक आँखें हैं, यह निश्चित रूप से सत्य है।

II. सभी होंठ नाक हैं, यह एक संभावना है। इसलिए निष्कर्ष II असत्य है।
अतः केवल निष्कर्ष I सत्य है।

15. (A) विकल्प (A) से 150 और 135 को परस्पर बदलने पर

$$\Rightarrow (135 \div 3 + 15) \div 3 \times 6 + 30 = 150$$

$$\Rightarrow (45 + 15) \div 3 \times 6 + 30 = 150$$

$$\Rightarrow 60 \div 3 \times 6 + 30 = 150$$

$$\Rightarrow 20 \times 6 + 30 = 150$$

$$\Rightarrow 120 + 30 = 150$$

$$\Rightarrow 150 = 150$$

L.H.S. = R.H.S.

16. (C) जिस प्रकार,

$$221 + 144 = 365$$

$$\frac{365}{5} = 73$$

और

$$222 + 153 = 375$$

$$\frac{375}{5} = 75$$

उसी प्रकार,
 $223 + 137 = 360$

$$\frac{360}{5} = 72$$

17. (D) जिस प्रकार

M	O	U	S	E
↕	↕	↕	↕	↕
N	L	F	H	V
14	12	6	8	22

$$14 + 12 + 6 + 8 + 22 = 62$$

और

S	H	E	E	P
↕	↕	↕	↕	↕
H	S	V	V	K
8	19	22	22	11

$$18 + 19 + 22 + 22 + 11 = 82$$

उसी प्रकार,

P	I	G
↕	↕	↕
K	R	T
11	18	20

$$\Rightarrow 11 + 18 + 20 = 49$$

18. (B) शृंखला का क्रम निम्न प्रकार है—

2	12	30	156	90	132
↑	↑	↑	↑	↑	↑
+10	+18	+26	+34	+42	
↑	↑	↑	↑	↑	
+8	+8	+8	+8		

19. (D) विकल्प (D) से ÷ और × को आपस में बदलने पर,

$$320 \div 4 - 16 \times 4 + 2 = 18$$

$$\Rightarrow 80 - 64 + 2 = 18$$

$$\Rightarrow 16 + 2 = 18$$

$$\Rightarrow 18 = 18$$

L.H.S. = R.H.S.

20. (B) प्रत्येक अगली आकृति में, पंचभुज एक भुजा वामावर्त दिशा में घूमते हुए एकान्तर कालांकित और सफेद हो रहा है। वृत्त मध्य में ही एकान्तर क्रम में कालांकित और सफेद हो रहा है। त्रिभुज स्वयं 90° वामावर्त दिशा में घूमता हुआ एक भुजा वामावर्त दिशा में घूम रहा है। इस प्रकार अगली आकृति विकल्प (B) है।

21. (A)

T U C O > D E ? 8
 प्रश्न आकृति

//////////

विकल्प (A) सही दर्पण आकृति है।

22. (C)



I. कम-से-कम कुछ सुलेख पेंटिंग है, यह निष्कर्ष निश्चित रूप से सत्य है।

II. कोई स्केचिंग, पेंटिंग नहीं है, यह एक संभावना है।

अतः केवल निष्कर्ष I अनुसरण करता है।

23. (B) कथन : B = T < E ≤ G > F = H > Q

निष्कर्ष : I. G > Q (सत्य)

II. G > B (सत्य)

अतः दोनों निष्कर्ष I और II अनुसरण करते हैं।

24. (D) जिस प्रकार वाइन सुरागार (सेलार) में रखी जाती है। उसी प्रकार माल गोदाम में रखा जाता है।

25. (D) जिस प्रकार

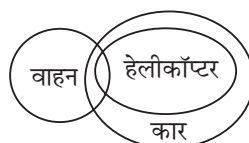
137	95	67
↑	↑	↑
-42	-28	

246	204	176
↑	↑	↑
-42	-28	

उसी प्रकार,

199	157	129
↑	↑	↑
-42	-28	

26. (C)



I. सभी वाहन कार है, यह एक संभावना है।

II. कुछ वाहन कार है। यह निश्चित रूप से सत्य है।

अतः या तो निष्कर्ष I या II अनुसरण करता है।

27. (A) जिस प्रकार

16	12	1	25
P	L	A	Y

$$\Rightarrow 16 + 12 + 1 + 25 = 54$$

और	8	1	16	16	25
	H	A	P	P	Y

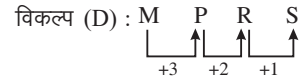
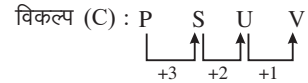
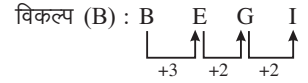
$$\Rightarrow 8 + 1 + 16 + 16 + 25 = 66$$

उसी प्रकार,

19	13	9	12	5
5	M	I	L	E

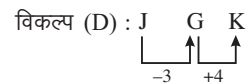
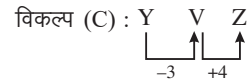
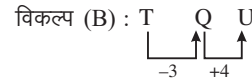
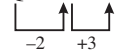
$$\Rightarrow 19 + 13 + 9 + 12 + 5 = 58$$

28. (B) विकल्प (A) : K N P Q



अतः विकल्प (B) भिन्न है।

29. (A) विकल्प (A) : Q O R



अतः विकल्प (A) भिन्न है।

30. (D) Giraffe → 2

Girasoles → 3

Girders → 1

Girdingly → 4

Girlish → 6

Girning → 5

अतः 231465 सही क्रम है।

31. (C) प्रश्नानुसार,

$$R > \square > \square > \square > \square$$

$$P > Q > R$$

$$S > T > U$$

सभी को मिलाने पर

$$P > Q > R > S > T > U > V$$

V सबसे छोटा है।

32. (B) + → -

$$- \rightarrow \times$$

$$\times \rightarrow \div$$

$$\div \rightarrow +$$

$$10 \div 5 \times 5 - 30 + 3$$

चिह्नों को बदलने पर,

$$\Rightarrow 10 + 5 \div 5 \times 30 - 3$$

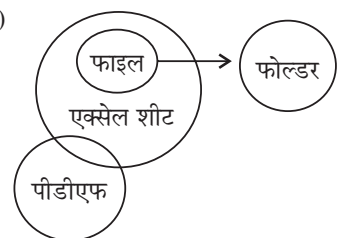
$$\Rightarrow 10 + 1 \times 30 - 3$$

$$\Rightarrow 10 + 30 - 3$$

$$\Rightarrow 40 - 3$$

$$\Rightarrow 37$$

33. (C)



I. कुछ पीडीएफ फोल्डर हैं, यह एक संभावना है। अतः निष्कर्ष I अनुसरण नहीं करता है।

II. कुछ एक्सेल शीट फोल्डर हैं, यह निष्कर्ष II अनुसरण नहीं करता है।

III. कुछ पीडीएफ एक्सेल शीट हैं, यह निश्चित रूप से सत्य है। अतः निष्कर्ष III अनुसरण करता है।

34. (A) जिस प्रकार

$$\frac{(52+34)}{2} = \frac{86}{2} = 43$$

और

$$\frac{(61+33)}{2} = \frac{94}{2} = 47$$

पैटर्न: $\frac{(\text{पहली संख्या} + \text{दूसरी संख्या})}{2}$

= तीसरी संख्या

उसी प्रकार

$$\frac{(58+26)}{2} = \frac{84}{2} = 42$$

35. (D) जिस प्रकार,

$$\begin{array}{ccc} 19 & 21 & 13 \\ S & U & M \\ +2 \downarrow & +4 \downarrow & \downarrow +6 \\ 21 & 25 & 19 \end{array}$$

और

$$\begin{array}{ccc} 14 & 5 & 20 \\ N & E & T \\ +2 \downarrow & +4 \downarrow & \downarrow +6 \\ 16 & 9 & 26 \end{array}$$

उसी प्रकार

$$\begin{array}{ccc} 13 & 15 & 16 \\ M & O & P \\ +2 \downarrow & +4 \downarrow & \downarrow +6 \\ \boxed{15} & \boxed{19} & \boxed{22} \end{array}$$

36. (A) $126 \div 23 - 138 \div (5 \times 4 - 6) + 4 = 1$

138 और 126 को परस्पर बदलने पर,

$$\Rightarrow 138 \div 23 - 126 \div (5 \times 4 - 6) + 4 = 1$$

$$\Rightarrow 6 - 126 \div (14) + 4 = 1$$

$$\Rightarrow 6 - 9 + 4 = 1$$

$$\Rightarrow 10 - 9 = 1$$

$$\Rightarrow 1 = 1$$

L.H.S. = R.H.S.

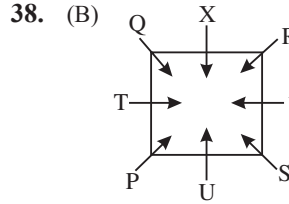
37. (D) जिस प्रकार

$$\begin{array}{ccc} K & I & T & E \\ -2 \downarrow & -3 \downarrow & -3 \downarrow & -4 \downarrow \\ I & F & Q & A \end{array}$$

$$\begin{array}{ccc} T & I & R & E \\ -2 \downarrow & -3 \downarrow & -3 \downarrow & -4 \downarrow \\ R & F & O & A \end{array}$$

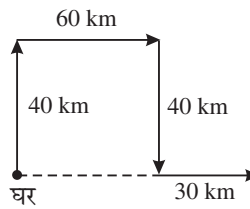
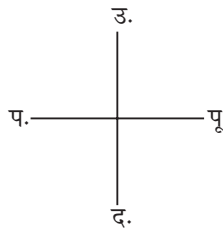
उसी प्रकार

$$\begin{array}{ccc} D & I & R & E \\ -2 \downarrow & -3 \downarrow & -3 \downarrow & -4 \downarrow \\ B & F & O & A \end{array}$$



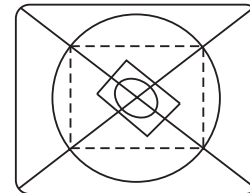
v के दाएँ तीसरा Q बैठा है।

39. (A)



वह अपने घर से पूर्व दिशा में है।

40. (B)



विकल्प (B) की आकृति प्रश्न आकृति को पूरा करती है।

41. (B) शृंखला का क्रम निम्नवत् है—

$$\begin{array}{cccccc} 4 & 8 & 1 & 22 & 25 & 50 & \boxed{53} \\ \times 2 & +3 & \times 2 & +3 & \times 2 & +3 & \end{array}$$

42. (B) A → +, B → ×

C → -, D → ÷

(90C9) D9 B9 A9

चिह्नों को रखने पर,

$$\Rightarrow (90 - 9) \div 9 \times 9 + 9$$

$$\Rightarrow 81 \div 9 \times 9 + 9$$

$$\Rightarrow 9 \times 9 + 9$$

$$\Rightarrow 81 + 9$$

$$\Rightarrow 90$$

43. (A) दिये गये शब्दों का तार्किक क्रम निम्न प्रकार है—

पृथ्वी → एशिया → भारत → पश्चिम बंगाल → कोलकाता
अतः 3, 4, 1, 2, 5 शब्दों का सही क्रम है।

44. (C) शृंखला का क्रम निम्नवत् है—

$$\begin{array}{cccccc} 98 & 118 & 140 & \boxed{164} & 190 & 218 \\ +20 & +22 & +24 & +26 & +28 & \end{array}$$

45. (A) जिस प्रकार

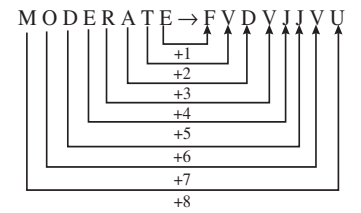
$$\begin{array}{ccc} 111 & 117 & 123 \\ +6 & +6 & \end{array}$$

$$\begin{array}{ccc} 169 & 200 & 231 \\ +31 & +31 & \end{array}$$

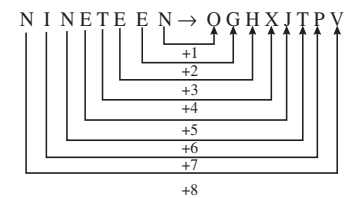
उसी प्रकार

$$\begin{array}{ccc} 125 & 135 & 145 \\ +10 & +10 & \end{array}$$

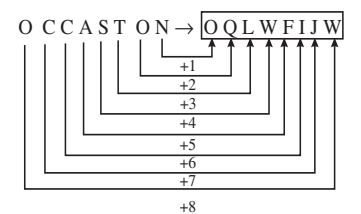
46. (D) जिस प्रकार



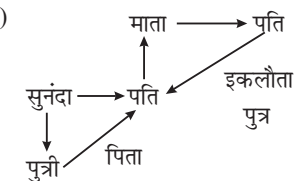
और



उसी प्रकार



47. (D)



आरेख से स्पष्ट है कि वह व्यक्ति सुनंदा का पति है।

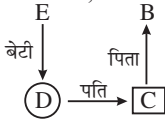
48. (D)



I. × II. ✓ III. ×

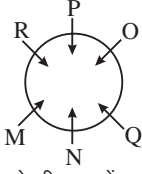
केवल निष्कर्ष II सही है।

49. (A) $B \% C \rightarrow B, C$ का पिता है।
 $C \wedge D \rightarrow C, D$ का पति है।
 $D \& E \rightarrow D, E$ की बेटी है।



आरेख से स्पष्ट है कि B, E का समधी है।

50. (C)



P के ठीक दायें R बैठा है।

सामान्य जागरुकता

51. (D) ● भारत में गुप्त शासकों ने दीनार नामक बड़ी संख्या में सोने के सिक्के जारी किये थे।
 ● गुप्तों की रजत मुद्रा को रूपक तथा तांबे की मुद्रा को माषक या कर्षापण कहा जाता था।
 ● सातवाहनों ने सीसा और पोटिन (आधार चांदी) के सिक्के जारी किए थे।
 ● गुप्तों के सोने के सिक्के मूल रूप से कुषाण मानक के अनुरूप थे, जो 5वीं शताब्दी के मध्य में वजन में 144 ग्रेन तक बढ़ाए गए थे।
 ● भारत में सबसे पहले स्वर्ण सिक्के इन्डो-ग्रीक शासकों ने चलाये थे।
 ● गुप्त राजाओं ने सबसे बड़ी संख्या में सोने के सिक्के जारी किए, जबकि कुषाण शासकों ने भारत में सर्वाधिक शुद्ध सोने के सिक्के जारी किये थे।
52. (C) ब्रह्मपुत्र को बांग्लादेश में जमुना के नाम से जाना जाता है।
 ● यह मानसरोवर झील के पास कैलाश रेंज के चेमायुंगडुंग ग्लेशियर से सियांग या दिहांग घाटी से भारत में प्रवेश करती है।
 ● यह अरुणाचल प्रदेश के सदिया शहर के पश्चिम से भारत में प्रवेश करती है।
 ● इसकी सहायक नदियाँ : दिबांग, लोहित, सियांग, बूढ़ी दिहांग, तीस्ता और धनसारी हैं।
 ● इसे तिब्बत में त्सांगपो और चीन में यारलुंग जांगबो के नाम से जाना जाता है।

- नदी धुबरी के नीचे असम को पार करती है और बांग्लादेश में प्रवेश करती है जहाँ नदी को जमुना के नाम से जाना जाता है और यह 337 किमी तक बहती है।

53. (D) ● वर्णम भारत के शास्त्रीय नृत्य भरतनाट्यम के चरणों में से एक है।
 ● भरतनाट्यम भारत के सबसे पुराने शास्त्रीय नृत्य रूपों में से एक है, जो तमिलनाडु राज्य में किया जाता है। इसे दासी अट्टम के नाम से भी जाना जाता है। क्योंकि इस नृत्य की शुरुआत देवदासियों द्वारा ही गई थी।
 ● कथकली – केरल कुचिपुड़ी-आंध्र प्रदेश, मोहिनीअट्टम केरल के अन्य प्रमुख नृत्य है।

54. (D) आई.सी.सी. महिला क्रिकेट एक-दिवसीय अन्तर्राष्ट्रीय विश्व कप 2022 में न्यूजीलैंड में खेला गया।
 ● साल 2025 में आयोजित होने वाले महिला वनडे वर्ल्ड कप टूर्नामेंट की मेजबानी भारत को सौंपी गई है। इस प्रकार भारत पाँचवीं बार आईसीसी महिला टूर्नामेंट की मेजबानी करेगा।
55. (C) ● वर्ष 2022 में नेपाल में प्रति 100 महिलाओं पर पुरुषों का अनुपात 88.55 है।
 ● भारत में वर्ष 2011 की जनगणना के अनुसार प्रति 100 पुरुषों पर 943 महिलाओं की गणना की गई थी।

56. (B) एज्हरा पोन्नाना केरल राज्य में मंदिर उत्सव के एक भाग के रूप में मनाया जाता है।
 ● पम्बा नदी के तट पर स्थित, एदतवा में यह विशाल स्मारक अलप्पुझा से 23 किमी दूर है और मध्यकालीन यूरोपीय चर्च जैसा दिखता है। इस की स्थापना 1810 में हुई थी।
 ● यह मंदिर वार्षिक उत्सव 27 अप्रैल को ध्वजारोहण के साथ शुरू होता है और 7 मई तक चलता है।
 ● इस समारोह के दौरान, सेंट जॉर्ज की एक मूर्ति, जो एक सोने के प्रतीक चिह्न से सजी होती है, को बाहर निकाला जाता है और उपासकों के देखने और पूजा करने के लिए बेसिलिका के केंद्र में एक

मंच पर रखा जाता है। उत्सव के दौरान प्रतिदिन भव्य आतिशबाजी के साथ जुलूस और सांस्कृतिक कार्यक्रम आयोजित किए जाते हैं।

57. (B) आठवीं पंचवर्षीय योजना के दौरान, नरसिम्हा राव सरकार ने भारत की नई आर्थिक नीति की शुरुआत की थी।

- इस नीति के दौरान नरसिम्हा राव नीति सरकार ने भारतीय अर्थव्यवस्था का वैश्वीकरण किया तथा भारतीय अर्थव्यवस्था को वैश्विक बाजारोन्मुख बनाने का प्रयास किया गया था।

58. (D) स्तम्भ A का स्तम्भ B के साथ मिलान इस प्रकार है—

स्तम्भ A	स्तम्भ B (%भूपर्पटी में)
Si	46.6%
O	27.7%
Al	5%
Fe	8.13%

59. (D) ● भारत के आवधिक श्रम बल सर्वेक्षण (PLFS) का प्रयोग भारतीय सशस्त्र बल द्वारा विशेष रूप से किया जाता था।
 ● सांख्यिकी और कार्यक्रम कार्यान्वयन मंत्रालय (MOSPI) द्वारा 2020-21 के लिए आवधिक श्रम बल सर्वेक्षण (PLFS) जारी किया गया था।

पीएलएफएस के मुख्य बिंदु इस प्रकार थे—

- बेरोजगारी दर,
 - श्रम बल भागीदारी दर (एलएफपीआर)
 - श्रमिक जनसंख्या अनुपात (WPR),
 - प्रवासन दर,
60. (A) ● 1859 में रॉबर्ट विल्हेम बन्सेन ने गुस्ताव रोबर्ट किरचोफ के साथ मिलकर फ्लेम स्पेक्ट्रोस्कोपी का आविष्कार किया था, जो एक ऐसा उपकरण है जो तत्वों को उनके उत्सर्जन स्पेक्ट्रा द्वारा पहचानने की सुविधा देता है।
 ● लौ परमाणु अवशोषण स्पेक्ट्रोस्कोपी में लौ का उद्देश्य विश्लेषण परमाणुओं को उत्तेजित करना है।
 ● एएएस में, विश्लेषण युक्त एक समाधान एक दीप्त में पेश किया जाता है। दीप्त नमूनों को फ्री ग्राउंड स्टेट परमाणुओं में परिवर्तित करती है जो उत्साहित हो सकते हैं।
 ● विशिष्ट तरंगदैर्घ्य पर प्रकाश

- उत्सर्जित करने वाली दीपक की ज्योति के माध्यम से परमाणुओं को पारित किया जाता है, और जैसे ही प्रकाश ऊर्जा अवशोषित होती है, परमाणुओं में इलेक्ट्रॉनों को उत्तेजित अवस्था में उठाया जाता है।
61. (C) ● विटामिन D हमारे शरीर की हड्डी और दाँतों के लिये कैल्शियम का उपयोग करने में मदद करता है।
- कैल्शियम मानव शरीर में हड्डियों और दाँतों के निर्माण के लिए उपयोगी होता है।
 - हड्डियाँ शरीर का कैल्शियम स्टोर होती हैं।
 - कैल्शियम युक्त खाद्य पदार्थों में डेयरी उत्पाद जैसे दूध, पनीर और दही गहरे हरे रंग की सब्जियाँ जैसे करेला, पालक और ब्रोकली आदि शामिल हैं।
 - शरीर में कैल्शियम के अवशोषण के लिए विटामिन डी जरूरी है।
 - सूरज की रोशनी विटामिन डी का प्राकृतिक और बेहतरीन स्रोत होती है।
62. (A) ● भारत के सभी शीर्ष चार नागरिक पुरस्कारों से सम्मानित होने का दुर्लभ गौरव बिस्मिल्लाह खान को प्राप्त है। पद्मश्री (1961) पद्मभूषण (1968) पद्म विभूषण (1980) भारत रत्न (2001)
- उस्ताद बिस्मिल्लाह खान (जन्म : 21 मार्च, 1916 –मृत्यु 21 अगस्त, 2006) भारत के एक प्रसिद्ध शहनाई वादक थे।
 - उनका जन्म बिहार के डुमरांव में हुआ था। 2001 में उन्हें भारत के सर्वोच्च नागरिक सम्मान भारत रत्न से नवाजा गया।
 - वह भारत रत्न से सम्मानित होने वाले तीसरे भारतीय संगीतकार थे।
63. (D) ● प्रश्नगत जानवरों में शेर तृतीयक उपभोक्ता है।
- एक खाद्य शृंखला एक विशेष वातावरण और/या निवास स्थान में विभिन्न जीवों के बीच खाद्य संबंधों को दर्शाती है।
 - एक खाद्य शृंखला दर्शाती है कि कैसे ऊर्जा सूर्य से उत्पादकों तक, उत्पादकों से उपभोक्ताओं तक, और उपभोक्ताओं से अपघटकों जैसे कवक तक पहुँचती है।
- वे यह भी दिखाती हैं कि किस प्रकार जानवर भोजन के लिए दूसरे जीवों पर निर्भर रहते हैं।
- तृतीयक उपभोक्ता**
- वे द्वितीयक उपभोक्ताओं से अपना भोजन प्राप्त करते हैं। जैसे—बाघ, गिद्ध, सिंह आदि।
64. (B) ● पंजाबी पाकिस्तान का सबसे बड़ा जातीय समूह है।
- पाकिस्तान के प्रमुख जातीय समूहों में पंजाबी, पश्तून, सिंधी, सरायकी, मुहाजिर, बलूच, पहाड़ी, हिंदकोवन और अन्य छोटे समूह शामिल हैं।
 - पूरे देश में पाए जाने वाले छोटे जातीय समूहों में कश्मीरी, कलश, चित्राली, सिद्दी, बुरकुशो, वाखिस, खोवार, हजारा शिना और बाल्टिस शामिल हैं। प्रतिशत के आधार पर जातीय समूहों का विवरण इस प्रकार है—पंजाबी (44.7%), पश्तून (15.4%), सिंधी (14.1%), सरायकिस (8.4%), मुहाजिर (9.6%) बलूची (3.6%), अन्य (6.3%)
65. (A) सोडियम एक उपधातु नहीं है।
- वे तत्व जिनमें धातु और अधातु दोनों के गुण होते हैं, उपधातु कहलाते हैं जिनमें बोरॉन, सिलिकन, जर्मेनियम, आर्सेनिक, एंटीमनी और टेल्यूरियम आदि प्रमुख हैं।
 - कार्बन, एल्युमीनियम, सेलेनियम, पोलोनियम और एस्टैटिन को भी कुछ हद तक उपधातु कहा जा सकता है।
66. (A) ● 1940 में वारली के जनजातियों ने महाराष्ट्र में औपनिवेशिक नीतियों के खिलाफ विद्रोह किया था।
- वारली एक स्वदेशी जनजाति है जो पश्चिमी भारत के पहाड़ी क्षेत्रों और महाराष्ट्र-गुजरात सीमा के साथ तटीय क्षेत्रों में निवास करती है।
 - वारली शब्द की उत्पत्ति एक ऐसे शब्द से हुई है जिसका अर्थ है जोती हुई भूमि का एक छोटा टुकड़ा।
 - वारली भारत की सबसे पुरानी पेंटिंग्स में से एक माना जाता है, वारली जनजाति द्वारा ही बनाई जाती हैं।
- वाली संस्कृति माँ प्रकृति की अवधारणा पर केंद्रित है और प्रकृति के तत्व अक्सर केंद्र बिंदु होते हैं जो वारली चित्रों में समानता पाते हैं।
67. (D) ● प्रसिद्ध उपन्यास चोखेर बाली के लेखक रबिन्द्रनाथ टैगोर हैं, रबिन्द्रनाथ टैगोर भारत प्रख्यात साहित्यकार, शिक्षाविद् और दार्शनिक थे।
- गोरा, घरे बैरे, चोखेर बाली, नास्थानिद, योगयोग; कहानी संग्रह: गलपागुच; संस्मरण: जीवनस्मृति, छलेबेला, रूस से पत्र; काव्य: गीतांजलि, सोनार तारि, भानुसिंह ठाकुरेर पदावली, मानसी, गीतिमल्या, वालका; नाटक: रक्तकावी, विसर्जन, डाक घर, राजा, वाल्मीकि प्रतिभा, अचलायतन, मुक्तधारा, उनकी अन्य कृतियों में शामिल हैं।
 - वह 1913 में साहित्य के नोबेल पुरस्कार से सम्मानित होने वाले पहले गैर-यूरोपीय थे।
 - वे एकमात्र कवि हैं जिनकी दो रचनाएँ दो देशों का राष्ट्रगान बनीं जिनमें भारत का राष्ट्रगान 'जन गण मन' और बांग्लादेश का राष्ट्रगान 'आमार सोनार बांग्ला' प्रमुख हैं।
 - शरतचंद्र ने अनेक उपन्यास लिखे, जिनमें पंडित मोशाय, बैकुंठर बिल, मेज दीदी, दरपचूर्ण, श्रीकांत, अरक्षणीय, निष्कृति, मामलेफल, गृहदह, शेष प्रश्न, दत्ता, देवदास, बम्हन की लड़की, विप्रदास, देना पावना आदि प्रमुख हैं।
 - बंकिम चन्द्र चटर्जी का पहला फिक्शन अंग्रेजी उपन्यास राजमोहन्स वाइफ था। दुर्गेशनदिनी, उनका पहला बंगाली उपन्यास था, जो 1865 में प्रकाशित हुआ था।
 - मुंशी प्रेमचंद उपन्यास—गोदान, गबन, निर्मला, प्रेमा, रंगभूमि, कर्मभूमि।
68. (A) ● अर्थशास्त्र राजनीति, अर्थशास्त्र सैन्य रणनीति राज्य के कार्य सामाजिक संगठन से सम्बन्धित एक भारतीय ग्रन्थ है, जिसका श्रेय कौटिल्य को जाता है।

- अर्थशास्त्र कौटिल्य या चाणक्य (चौथी शताब्दी ईसा पूर्व) द्वारा लिखित एक संस्कृत ग्रन्थ है।
 - कौटिल्य का अर्थशास्त्र पंद्रह भागों और एक सौ अस्सी उपखंडों में विभाजित है और इसमें लगभग छह हजार श्लोक हैं।
 - कौटिल्य का वास्तविक नाम विष्णुगुप्त या चाणक्य था। ये चंद्रगुप्त के प्रधानमंत्री थे।
 - कौटिल्य का अर्थशास्त्र (1909) में प्राप्त हुआ था और डॉ. श्याम शास्त्री ने उसका अनुवाद किया। इसे सरकार के हित को ध्यान में रखकर बनाया गया है।
69. (C) ● पंडित किशन महाराज (3 सितंबर, 1923- 4 मई, 2008) एक भारतीय वाद्य यंत्र तबला से सम्बन्धित थे, वे हिंदुस्तानी शास्त्रीय संगीत के बनारस घराने से ताल्लुक रखते थे।
- आधुनिक युग में जिस व्यक्ति को तबले पर 'अधिपत्य' माना जा सकता है, वे हैं पं. किशन महाराज।
 - वे पंडित रविशंकर के घनिष्ठ मित्र थे, जिनका उन्होंने कई बार समर्थन किया।
 - उन्होंने उस्ताद अली अकबर खान, पंडित ओंकारनाथ ठाकुर, पंडित भीमसेन जोशी, बड़े गुलाम अली खान, उस्ताद विलायत खान, अमजद अली खान, गिरिजा देवी बिरजू महाराज सहित अपने समय के कई दिग्गजों के साथ मंच साझा किया था।
 - किशनजी एक बहुत ही बहुमुखी संगीतकार थे, वे पखावज, मृदंगम, ढोल आदि जैसे सभी प्रकार के वाद्य यंत्र बजा सकते थे।
 - वे सितार और सरोद बजाने में भी सक्षम थे और नृत्य के साथ गा भी सकते थे।
70. (A) ● हरित क्रान्ति के दौरान फसल युग्म गेहूँ चावल को सबसे अधिक लाभ हुआ?
- भारत में हरित क्रान्ति के कारण गेहूँ और चावल की फसलों के उत्पादन में वृद्धि की अधिकतम दर देखी गई।
 - हरित क्रान्ति की शुरुआत 1966-67 में भारतीय कृषि में अधिक उपज देने वाली किस्में (एचवाईवी) के बीजों के आगमन के साथ हुई।
 - इसे बेहतर और कुशल सिंचाई और फसल को बढ़ावा देने के लिए उर्वरकों के सही उपयोग के साथ जोड़ा गया था।
 - हरित क्रान्ति का परिणाम भारत को खाद्यान्न में आत्मनिर्भर बनाना था।
 - इन HYV बीजों से गेहूँ की फसल में अधिक सफलता मिली और पर्याप्त सिंचाई वाले क्षेत्रों में अत्यधिक प्रभावी थे।
 - भारत में स्वामीनाथन को हरित क्रान्ति का जनक कहा जाता है।
71. (D) ● मोरमुगाओ बन्दरगाह दक्षिण गोवा में स्थित है यह भारत का सबसे पुराना बंदरगाह है।
- यह गहरा प्राकृतिक बंदरगाह है जो गोवा का सबसे महत्वपूर्ण बंदरगाह है।
 - इसने भारत में समुद्री व्यापार के विकास में व्यापक योगदान दिया है।
 - यह भारत के लौह अयस्क निर्यात बंदरगाह में से एक है जो लगभग 27.3 मिलियन टन लौह अयस्क का निर्यात करता है।
 - 2001 की भारत की जनगणना के अनुसार, मोरमुगाओ की आबादी लगभग 97000 है।
72. (D) ● धन कर एक प्रत्यक्ष कर का उदाहरण है प्रत्यक्ष कर वह कर है जब कोई व्यक्ति भार वहन करने के साथ-साथ सीधे सरकार को भुगतान करता है। प्रत्यक्ष कर के उदाहरणों में निर्धारण कर, आयकर, ब्याज कर, व्यय कर, संपत्ति कर आदि शामिल हैं।
- अप्रत्यक्ष कर जब एक विक्रेता पहले खरीदार से कर एकत्र करता है और फिर उसे सरकार को भुगतान करता है। अप्रत्यक्ष कर के उदाहरण-सीमा शुल्क, सेवा कर, बिक्री कर, राज्य उत्पाद शुल्क, स्टाम्प और पंजीकरण शुल्क, भुगतान कर आदि हैं।
73. (B) ● दोहा शहर में 72वीं फीफा कांग्रेस आयोजित की गई थी। जहाँ FIFA अध्यक्ष जियानी इन्फेतिनो ने कहा नये फीफा (FIFA) फारवर्ड 3.0 कार्यक्रम में 25% की वृद्धि होगी।
- जियान इन्फेतिनो फीफा (द फेडरेशन इंटरनेशनल डी फुटबॉल एसोसिएशन) के वर्तमान अध्यक्ष हैं। 26 फरवरी 2016 को फीफा असाधारण कांग्रेस द्वारा 2016 के दौरान उन्हें फीफा का अध्यक्ष चुना गया।
 - फीफा एक गैर-लाभकारी संगठन है, जो खुद को एसोसिएशन फुटबॉल के एक अंतर्राष्ट्रीय शास्त्री निकाय के रूप में वर्णित करता है।
 - यह फुटबॉल का सर्वोच्च शासी निकाय है। इसका मुख्यालय ज्यूरिख, स्विट्जरलैंड में स्थित है।
74. (C) ● जैव उत्प्रेरक के लिए दूसरा शब्द एंजाइम है।
- एक एंजाइम एक प्रकार का प्रोटीन होता है जो कोशिकाओं के अंदर पाया जाता है।
 - एंजाइम मानव शरीर में रासायनिक प्रतिक्रियाओं को तेज करने में मदद करते हैं।
 - एंजाइम भोजन को पचाने, मांसपेशियों के निर्माण और शरीर में विषाक्त पदार्थों को समाप्त करने के लिए आवश्यक हैं।
- एंजाइमों के गुण—**
- प्रत्येक एंजाइम केवल एक विशिष्ट प्रकार की प्रतिक्रिया को उत्प्रेरित करता है।
 - एक एंजाइम की कार्य क्षमता बहुत अधिक होती है, इसकी छोटी सी मात्रा भी प्रतिक्रिया को प्रेरित करती है।
 - एंजाइम की गतिविधि मानव शरीर के तापमान पर अधिकतम 37 डिग्री सेल्सियस (310K) के आसपास होती है। इसके नीचे, प्रतिक्रिया धीमी हो जाती है। एंजाइमों की गतिविधि पीएच मान पर निर्भर करती है।
75. (D) ● अगर पीड़िता की उम्र 14 वर्ष से कम होती है तो 55% मुआवजा दिया जाता है केन्द्रीय पीड़ित मुआवजा निधि योजना की विशेषता नहीं है। चूँकि इस योजना के तहत यदि पीड़िता की आयु 14 वर्ष से कम है तो मुआवजे की धनराशि 50% है।
76. (B) ● जनवरी 2022 में भारतीय खिलाड़ी सानिया मिर्जा ने 2022 के टेनिस सत्र के बाद संन्यास लेने की घोषणा की है।

- वर्ष 2009 में वे भारत की ओर से ग्रैंड स्लैम जीतने वाली पहली महिला खिलाड़ी बनीं।
 - 2006 में "पद्म श्री" से सम्मानित किया गया।
 - 2006 में, WTA का "मोस्ट इम्प्रेसिव न्यू कॉमर अवार्ड" अमेरिका में दुनिया के टेनिस दिग्गजों के बीच प्रदान किया गया था। साथ ही उन्हें 2004 में अर्जुन पुरस्कार से सम्मानित किया गया है।
 - वर्ष 2016 में उन्हें पद्म भूषण पुरस्कार से सम्मानित किया गया था तथा सानिया मिर्जा को वर्ष 2017 में राजीव गांधी खेल रत्न पुरस्कार से सम्मानित किया जाएगा।
77. (C) ● मैगस्थनीज ने आर्य कालीन राजधानी पाटलिपुत्र में 64 द्वार और 570 मीनारों का उल्लेख किया है।
- मैगस्थनीज के अनुसार पाटलिपुत्र शहर साढ़े नौ मील लंबा और ढाई मील चौड़ा है। नगर के चारों ओर एक खाई है जिसकी चौड़ाई छः सौ फुट और गहराई पैंतालीस फुट है। इसके चारों ओर चौंसठ द्वार और पाँच सौ सत्तर बुर्ज हैं।
 - मौर्यकालीन भारत के इतिहास की जानकारी का एक महत्वपूर्ण स्रोत मैगस्थनीज की 'इंडिका' है। इस पुस्तक में मैगस्थनीज ने उस समय के बारे में बहुत कुछ लिखा है। मैगस्थनीज सेल्यूकस द्वारा चंद्रगुप्त के दरबार में भेजा गया यूनानी राजदूत था।
 - पाटलिपुत्र के प्रबंध के सम्बन्ध में मैगस्थनीज ने लिखा है कि नगर का प्रबंध छः समितियों द्वारा किया जाता था, जिनमें से प्रत्येक में पाँच-पाँच सदस्य होते थे। चंद्रगुप्त के प्रशासन का वर्णन करते हुए इन समितियों के कार्यों का वर्णन भी किया गया है।
78. (C) ● चंद्रगुप्त के दरबार में भेजा गया यूनानी राजदूत मैगस्थनीज था। उसे यूनानी राजा सेल्यूकस निकेटर ने भेजा था।
- मैगस्थनीज की पुस्तक इंडिका का विवरण हमें चंद्रगुप्त मौर्य के शासन को समझने में मदद करता है।
 - अशोक बिन्दुसार का पुत्र था।
- उसने 268 ईसा पूर्व से 232 ईसा पूर्व तक शासन किया।
- समुद्रगुप्त गुप्त वंश के शासक थे। उन्हें भारत का नेपोलियन भी कहा जाता है।
79. (C) ● मौलिक अधिकारों को संयुक्त राज्य अमेरिका संविधान के मौलिक अधिकारों से लिया गया है।
- **मौलिक अधिकार**—भारत में प्रत्येक नागरिक को कुछ मौलिक अधिकार दिए गए हैं, जिन्हें कोई भी उससे छीन नहीं सकता है, ये प्रावधान भारतीय संविधान में अमेरिका से लिए गए हैं।
 - इनका उल्लेख संविधान के अनुच्छेद 12 से 35 तक और भाग 3 में किया गया है।
 - वर्तमान में संविधान में कुल 6 मौलिक अधिकार दिए गए हैं।
80. (C) ● भारत में ज्ञान पंचमी मुख्य रूप से जैन समुदाय द्वारा मनाई जाती है।
- "ज्ञान पंचमी," सभी जैन उत्सवों में सबसे महत्वपूर्ण है, जिसे "लाभा पंचम" और "ज्ञान पंचमी" के रूप में भी जाना जाता है।
 - कार्तिक मास की पंचमी तिथि को "ज्ञान पंचमी" नाम दिया गया है। इसे "ज्ञान दिवस" के रूप में जाना जाता है।
 - ज्ञान को 'तीसरा नेत्र' या 'दूसरा सूर्य' भी कहा जाता है। इसलिए इस दिन ज्ञान अज्ञानता का स्थान ले लेता है।
81. (D) ● टू किल ए मॉकिंगबर्ड नामक उपन्यास की लेखिका हार्पर ली हैं।
- हार्पर ली, का यह उपन्यास अलबामा के एक छोटे से शहर में नस्लीय अन्याय के बारे में है।
 - टू किल एक मॉकिंगबर्ड के प्रसिद्ध समावेशी लेखक हार्पर ली ने अपना अधिकांश जीवन लाइमलाइट से बाहर बिताया।
 - "टू किल ए मॉकिंगबर्ड" जो 1960 में प्रकाशित हुई थी और जिसने अगले वर्ष फिक्शन के लिए पुलित्जर पुरस्कार जीता, सुश्री ली को एक साहित्यिक हस्ती में बदल दिया, एक ऐसी भूमिका जिसे उन्होंने दमनकारी पाया और स्वीकार करना कभी नहीं सीखा।
82. (C) ● मुगल शासक हुमायूँ ने अपने पिता के वसीयतनामों के अनुसार अपनी विरासत का बंटवारा किया था। जिसने अपने भाई कामरान, हिन्दाल अक्सरी और खलील के बीच साम्राज्य का विभाजन/बंटवारा किया था। हुमायूँ का मूल नाम नासिर-उद-दीन-मुहम्मद था जिनका जन्म 6 मार्च, 1508 को हुआ था। वह अपने पिता बाबर की मृत्यु के बाद 1530 में सिंहासन पर बैठा था।
- हुमायूँ ने अपने सभी नियंत्रित क्षेत्रों को अफगान शासक शेर शाह सूरी के हाथों खो दिया, जिसके साथ उन्होंने 1539 में चौसा की प्रसिद्ध लड़ाई लड़ी, लेकिन 15 साल बाद सफाविद वंश की मदद से फिर से नियंत्रण हासिल कर लिया।
 - 24 जनवरी, 1556 को पुस्तकालय की सीढ़ी से गिरकर उनकी मृत्यु हो गई। उनकी मृत्यु के बाद उसे पुराना किला दिल्ली में दफनाया गया था।
83. (A) ● सिक्किम में बौद्ध समुदाय सागा दावा त्योंहार मनाता है।
- यह त्योंहार गौतम बुद्ध के जन्म, ज्ञान प्राप्ति और निर्वाण प्राप्ति के उपलक्ष्य में मनाया जाता है।
 - यह त्योंहार बौद्ध कैलेंडर के चौथे महीने की पूर्णिमा के दिन मनाया जाता है।
 - सागा दावा ज्यादातर गंगटोक और आस-पास क्षेत्रों में मनाया जाता है और उनका जुलूस त्सुक ला खांग मठ से शुरू होता है। यह पर्व 1950 से मनाया जा रहा है।
84. (C) ● राष्ट्रीय फिल्म पुरस्कार की सर्वश्रेष्ठ कोरियोग्राफी श्रेणी में सबसे पहले लक्ष्मीबाई कोल्हापुर को सम्मानित किया गया था।
- राष्ट्रीय फिल्म पुरस्कार भारत में सबसे प्रसिद्ध फिल्म पुरस्कार समारोह है। इसकी स्थापना वर्ष 1954 में हुई थी।
 - भारत के अंतर्राष्ट्रीय फिल्म समारोह और भारतीय पैनोरमा के साथ-साथ 1973 से भारत सरकार के फिल्म निदेशालय द्वारा इसकी देखरेख की जाती है।
 - हर साल, सरकार द्वारा नामित एक राष्ट्रीय पैनल विजेता प्रविष्टि का चयन करता है, और पुरस्कार समारोह नई दिल्ली में आयोजित किया जाता है, जहाँ भारत के

राष्ट्रपति पुरस्कार प्रदान करते हैं। इसके बाद राष्ट्रीय फिल्म महोत्सव का उद्घाटन समारोह होता है, जहाँ पुरस्कार विजेता फिल्मों को आम जनता के लिए दिखाया जाता है।

85. (A) ● बंगाल में इण्डियन एसोसिएशन की स्थापना वर्ष 1876 में हुई थी।
- इण्डियन नेशनल एसोसिएशन, जिसे इण्डियन एसोसिएशन के रूप में भी जाना जाता है, सुरेंद्रनाथ बनर्जी और आनंद मोहन बोस द्वारा 1876 में ब्रिटिश भारत में स्थापित पहला स्पष्ट रूप से राजनैतिक संगठन था।
 - इसका उद्देश्य "लोगों की राजनीतिक, बौद्धिक और भौतिक उन्नति को हर वैध तरीके से बढ़ावा देना" था।
 - इस संघ ने सिविल सेवा परीक्षा के लिए आयु सीमा कम करने के विवाद पर अल्बर्ट के विधेयक का विरोध किया था।
 - स्मरण रहे कि सुरेंद्रनाथ बनर्जी को राष्ट्रगुरु के नाम से जाना जाता है।
86. (D) ● बॉक्स वलन एक विशेष प्रकार का वलन है, जिसमें असाधारण रूप से चपटा शीर्ष और खड़ी झुकी हुई भुजाएँ होती हैं, जो लगभग आयत की तीन भुजाएँ बनाती हैं। पृथ्वी पर अवसादी चट्टानों के निर्माण के समय वलयों की रचना होती है जो पृथ्वी के संपीड़न के कारण उत्पन्न होती है।
87. (A) ● रानी की वाव भारत में बेहतरीन बावड़ी के उदाहरण के रूप में माना जाता है।
- रानी की वाव का निर्माण सरस्वती नदी के किनारे किया गया था। यह गुजरात राज्य के पाटन जिले में स्थित है।
 - इस प्रसिद्ध बावड़ी में सीढ़ीदार कुँआ है, जिसे चालुक्य वंश के शासन काल में बनवाया गया था।
 - इसका 1980 में भारतीय पुरातत्व सर्वेक्षण द्वारा पुनः उत्खनन कराया गया था।
 - 2014 में, इसे यूनेस्को द्वारा विश्व विरासत स्थल के रूप में सूचीबद्ध किया गया था।
88. (D) नट प्रोटीन का पूर्ण स्रोत नहीं है जबकि लाल मांस, दुग्ध खाद्य, अंडे, प्रोटीन के पूर्ण स्रोत हैं।

प्रोटीन—

- प्रोटीन को हमारे शरीर का बिल्डिंग ब्लॉक कहा जाता है।
 - हमारे शरीर के वजन का लगभग 20 प्रतिशत प्रोटीन से आता है।
 - प्रोटीन मांसपेशियों और शरीर के अन्य ऊतकों की वृद्धि और मरम्मत के लिए आवश्यक मानी जाती है।
 - प्रोटीन अमीनो एसिड से बने होते हैं जिनमें कार्बन, हाइड्रोजन, ऑक्सीजन और नाइट्रोजन जैसे तत्व होते हैं।
 - हमें प्रोटीन जानवरों के साथ-साथ पौधों के माध्यम से भी मिलता है।
 - पशु प्रोटीन दूध, अंडे, पनीर, मछली और मांस में पाए जाते हैं।
89. (A) ● 1941 में मुख्य रूप से ग्रेट इण्डियन राइनो (भारतीय गैंडा-राइनोसिरस यूनिर्कोर्निस) के संरक्षण के लिए पश्चिमी बंगाल में जलदापारा वन्य जीव अभयारण्य स्थापित किया गया था।
- जलदापारा राष्ट्रीय उद्यान पूर्वी हिमालय की तलहटी में पश्चिम बंगाल के जलपाईगुड़ी जिले के अलीपुरद्वार उप-मंडल में तोरसा नदी के किनारे स्थित एक राष्ट्रीय उद्यान है।
 - तोरसा नदी इस वर्षा वन अभयारण्य से होकर बहती है और इसका क्षेत्रफल 141 किमी और ऊँचाई 61 मीटर है।
 - जलदापारा, नदी के जंगलों के पैच के साथ एक विशाल घास का मैदान, 1941 में वनस्पतियों और जीवों की महान विविधता के संरक्षण के लिए एक अभयारण्य घोषित किया गया था, विशेष रूप से एक सींग वाले गैंडे जिसे विलुप्त होने का खतरा था।
90. (B) ● बिहार निवास स्थान बौद्ध भिक्षुओं द्वारा उपयोग किया जाता है।
- बौद्ध अनुयायी चैत्यों का उपयोग पूजा स्थल के रूप में करते हैं।
 - स्तूप—एक गोलाकार टीले के आकार की संरचना जिसका उपयोग पवित्र बौद्ध अवशेषों को रखने के लिए किया जाता है।
91. (C) ● अरंडी का बीज रिकनोलेइक अम्ल से भरपूर होता है।
- अरंडी के बीज फैंटी एसिड,

रिकनोइलिक एसिड से भरपूर होते हैं।

- अरंडी के बीज में प्रोटीन, कार्बोहाइड्रेट और कैल्शियम भी पाया जाता है।
 - यह वृक्ष मूल रूप से दक्षिण-पूर्व भूमध्य सागर, पूर्वी अफ्रीका और भारत में पाया जाता है।
 - यह उष्णकटिबंधीय क्षेत्रों में उगाये जाने के लिए उपयुक्त है।
92. (A) ● एक प्रसिद्ध गायिका एम.एल. वसंत कुमारी कर्नाटक संगीत के लिए प्रसिद्ध है।
- एमएल वसंत कुमारी 'संगीता कलानिधि' की सबसे कम उम्र की महिला पुरस्कार विजेता हैं।
 - 1977 में वसंत कुमारी को पद्म भूषण से सम्मानित किया गया था।
 - डी.के. पट्टमाला, एम.एस. सुब्बुलक्ष्मी लोकप्रिय रूप से कर्नाटक संगीत की महिला त्रिमूर्ति के रूप में जानी जाती है।
93. (D) ● स्टार्टअप इण्डिया सीड फंड योजना जिसे 2021 में भारत सरकार द्वारा शुरू किया गया था को 1 अप्रैल 2021 से लागू किया गया था।
- स्टार्टअप इंडिया पहल के 5 साल पूरे होने के उपलक्ष्य में आयोजित 'स्टार्टअप इंडिया इंटरनेशनल समिट' में यह योजना शुरू की गई थी।
 - योजना का उद्देश्य स्टार्टअप्स को प्रोटोटाइप के विकास, अवधारणा के प्रमाण, उत्पाद परीक्षण, बाजार में प्रवेश के लिए वित्तीय सहायता प्रदान करना है।
 - यह योजना 'उद्योग और आंतरिक व्यापार संवर्धन विभाग' द्वारा शुरू की गई है।
94. (D) ● टेनिस खेल में जब दो खिलाड़ियों के बीच स्कोर-40-40 हो जाता है तो इसे ड्यूस कहा जाता है।
- #### टेनिस स्कोरिंग प्रणाली
- एक खिलाड़ी या टीम को एक गेम जीतने के लिए चार अंक प्राप्त करने होते हैं। कोई भी खेल 0-0 से शुरू होता है और टेनिस में इसे जीरो पॉइंट लव कहा जाता है। अंकों की प्रगति इस प्रकार है—
 - पहला बिंदु 15
 - दूसरा बिंदु 30
 - तीसरा बिंदु 40

- चौथा बिंदु गेम प्वाइंट
- हालाँकि, यदि दोनों खिलाड़ी एक खेल में तीन-तीन अंक जीतते हैं (अर्थात् स्कोर 40-40 है), तो इसे ड्यूस कहा जाता है।
- ड्यूस के बाद अगला अंक जीतने वाले खिलाड़ी को फायदा मिलता है। खिलाड़ी/टीम जो उन्नत हो जाता है।
- हालाँकि, यदि प्रतिद्वंद्वी लाभ के बाद अगला अंक जीतता है, तो स्कोर वापस ड्यूस हो जाता है। एक खिलाड़ी/टीम को एक गेम जीतने के लिए ड्यूस के बाद लगातार दो अंक जीतने की आवश्यकता होती है।

95. (B) ● केन्द्र ने फरवरी 2021 में भिखारियों और ट्रांस जेन्डरों के कल्याण के लिए सामाजिक न्याय और अधिकारिता मंत्रालय के अन्तर्गत एक राष्ट्रीय योजना शुरुआत करने की घोषणा थी वह सपोर्ट फॉर मार्जिनलाइज्ड इन्डीविजुअल लाइवलीहुड एण्ड इन्टरप्राइजेज (SMILE) है।
- इसके अंतर्गत 2 उप-योजनाएँ हैं— 'ट्रांसजेंडर व्यक्तियों के कल्याण के लिए व्यापक पुनर्वास के लिए केंद्रीय क्षेत्र की योजना' और 'भीख मांगने में लगे व्यक्तियों के व्यापक पुनर्वास के लिए केंद्रीय क्षेत्र की योजना'।
 - मंत्रालय ने 2021-22 से 2025-26 तक इस योजना के लिए 365 करोड़ रुपये आवंटित किये हैं।

योजना में निम्नलिखित घटक शामिल हैं:

- ट्रांसजेंडर छात्रों के लिए छात्रवृत्ति
- कौशल विकास और आजीविका
- समग्र चिकित्सा स्वास्थ्य
- 'गरिमागृह' के रूप में आवास
- ट्रांसजेंडर प्रोटेक्शन सेल का प्रावधान
- ई-सेवाएं (राष्ट्रीय पोर्टल और हेल्पलाइन और विज्ञापन)

96. (D) ● 10 अप्रैल, 2022 की स्थिति के अनुसार उत्तर प्रदेश राज्य से राज्य सभा में सदस्यों की संख्या सबसे अधिक है।
- 31 राज्यसभा सीटों के साथ, उत्तर प्रदेश में सबसे अधिक राज्यसभा सीटें हैं।
- राजस्थान-10 सीटें

- मध्य प्रदेश-11 सीटें
- कर्नाटक-12 सीटें
- संविधान का अनुच्छेद 80 राज्य सभा के सदस्यों की अधिकतम संख्या 250 तय करता है, जिनमें से 12 राष्ट्रपति द्वारा नामित किए जाते हैं और 238 राज्यों और केंद्र शासित प्रदेशों के प्रतिनिधि होते हैं।
- वर्तमान राज्यसभा में 245 सदस्य हैं। 233 सदस्यों को विधान सभा के सदस्यों द्वारा चुना जाता है और 12 को कला, साहित्य, ज्ञान और सेवाओं में उनके योगदान के लिए राष्ट्रपति द्वारा नामित किया जाता है।

97. (B) ● प्रश्नगत पर्वत शृंखलाओं का उत्तर से दक्षिण की ओर क्रम पीरपंजाल - काराकोरम-लद्दाख - जास्कर होगा।

- काराकोरम रेंज—काराकोरम एक पर्वत शृंखला है जो चीन, भारत और पाकिस्तान की सीमाओं तक फैली हुई सीमा के उत्तर-पश्चिमी छोर के साथ अफगानिस्तान और ताजिकिस्तान तक फैली हुई है; इसके सबसे ऊँची 15 चोटी पाकिस्तान में स्थित हैं।
- लद्दाख रेंज—लद्दाख रेंज भारतीय केंद्र शासित प्रदेश लद्दाख में स्थित एक पर्वत शृंखला है, जिसका उत्तरी छोर भारत के लद्दाख तक फैला हुआ है। यह सिंधु और श्योक नदी घाटियों के बीच स्थित है, जो 230 मील (370 किमी) तक फैला हुआ है। लद्दाख की राजधानी लेह लद्दाख रेंज की तलहटी में स्थित है।
- जास्कर रेंज—जास्कर रेंज जम्मू और कश्मीर और लद्दाख के भारतीय क्षेत्रों में एक पर्वत शृंखला है, जो जास्कर को लद्दाख से अलग करती है। जास्कर श्रेणी टैथिस हिमालय का हिस्सा है। जास्कर रेंज की औसत ऊँचाई लगभग 6,000 मीटर है। इसका पूर्वी भाग रूपशु कहलाता है।
- पीर पंजाल रेंज—पीर पंजाल रेंज को हिंदू शास्त्रों में पांचालदेव के नाम से भी जाना जाता है। यह हिमाचल प्रदेश में स्थित हिमालय क्षेत्र में पहाड़ों का एक समूह है। पीर पंजाल हिमालय की सबसे बड़ी

शृंखला है। सतलुज नदी के पास, यह हिमालय से अलग हो जाती है और एक तरफ व्यास और रावी नदियों और दूसरी तरफ चिनाव के बीच एक विभाजन रेखा बनाती है।

98. (B) ● उस कार्बनिक एसिड का IUPAC नाम पिक्रिक एसिड है जिसका सूत्र $(O_2N)_3C_6H_2OH$ है और जिसका उपयोग विस्फोटक, एन्टीसेप्टिक दवा तथा एक स्थिरकारी (फिक्सेटिव) के रूप में किया जाता है।

- पिक्रिक एसिड में तीन नाइट्रो समूह फिनोल की ऑर्थो और पैरा स्थिति से जुड़े होते हैं।

- यह उच्च तापमान पर केंद्रित HNO_3 के साथ फिनोल के नाइट्रेशन द्वारा प्राप्त किया जाता है।

99. (D) ● प्रत्येक वर्ष मकर संक्रान्ति का त्यौहार जनवरी महीने में मनाया जाता है।

- मकर संक्रान्ति भारत के अधिकांश हिस्सों में अलग-अलग नामों से मनाया जाने वाला एक महत्वपूर्ण त्यौहार है। यह फसल कटाई का पर्व है।

मकर संक्रान्ति :

- यह हर साल जनवरी में मनाया जाता है जो सर्दियों के मौसम के अंत और नए फसल के मौसम की शुरुआत का प्रतीक है और भगवान सूर्य को समर्पित है।

- इस दिन, सूर्य मकर या मकर राशि में प्रवेश करता है जो सर्दियों के महीनों के अंत और लंबे दिनों की शुरुआत का प्रतीक है।

- देश के अलग-अलग हिस्सों में मकर संक्रान्ति को अलग-अलग नामों से मनाया जाता है।

- लोहड़ी—मकर संक्रान्ति से एक दिन पहले हरियाणा और पंजाब में मनाया जाता है।

- खिचड़ी—बिहार और उत्तर प्रदेश में मनाया जाता है।

- पोंगल—तमिलनाडु में मनाया जाता है।

100. (C) ● भारत के बैंगलौर-चेन्नई औद्योगिक क्षेत्र में हिन्दुस्तान एरोनॉटिक्स लिमिटेड (HAL) स्थित है।

- हिन्दुस्तान एरोनॉटिक्स लिमिटेड (HAL) एक भारतीय के स्वामित्व वाली एयरोस्पेस और रक्षा कंपनी

है जिसका मुख्यालय भारत के बेंगलुरु में है। यह भारतीय रक्षा मंत्रालय द्वारा नियंत्रित किया जाता है।

- सरकार के स्वामित्व वाली यह कंपनी मुख्य रूप से एयरोस्पेस संचालन में लगा हुआ है और वर्तमान में विमान, जेट इंजन, हेलीकॉप्टर और उनके स्पेयर पार्ट्स के डिजाइन, निर्माण और असेंबली में शामिल है।
- भारत में बेंगलुरु, नासिक, कोरवा, कानपुर, कोरापुट, लखनऊ, हैदराबाद, बैरकपुर और कासरगोड सहित कई सुविधाएँ हैं।
- HAL द्वारा निर्मित HF-24 मारुत लड़ाकू-बमवर्षक भारत में पहला लड़ाकू विमान था।
- 23 दिसंबर, 1940 को, वालचंद हीराचंद द्वारा बेंगलूर में हिंदुस्तान एयरक्राफ्ट लिमिटेड के रूप में एचएएल की स्थापना की गई, जो कंपनी के प्रथम अध्यक्ष थे।

ENGLISH LANGUAGE AND COMPREHENSION

101. (C) Imbued की जगह Filled का प्रयोग होगा। Fill किसी में कुछ पूरी तरह से भरना या किसी वस्तु का पूरा भर जाना, Imbued—गहरी भावनाएँ, विचार आदि भर देना, प्रभावित कर देना।
102. (A) He didn't hardly know की जगह He know hardly का प्रयोग होगा क्योंकि hardly स्वयं में एक negative शब्द है। Hardly लगभग कोई नहीं, लगभग कुछ नहीं, लगभग शून्य।
103. (C) No error [वाक्य Grammar एवं structure की दृष्टि से सही है] A Tendency to do something = व्यवहार करने का ढंग, आदत।
104. (C) turned up की जगह turned down का प्रयोग होगा, क्योंकि turn somebody/something down = किसी के प्रस्ताव आदि को ठुकरा देना।
105. (A) दिए गए Direct speech को Indirect speech में बदलने के लिए said to को taught में बदलें तथा "—" की जगह that (connective) का प्रयोग करें। Reporting clause में कोई भी बदलाव नहीं होगा, क्योंकि यह एक proverb है।
106. (C) Solitude का antonym है—company solitude—एकान्त या निर्जन स्थान अकेलापन (विशेषतः अच्छा लगने वाला

एकाकीपन) company—किसी व्यक्ति का साथ सहचर्य।

107. (A) Blitz का antonym है—Obtuse Blitz—एकाएक किया गया प्रयास या आक्रमण Obtuse—मंदबुद्धि harm नुकसान या हानि पहुँचाना।
108. (B) Viable का सही आशय है—Feasible। Viable—जो किया जा सके या सम्भव हो, व्यवधर्म, जो अपने बूते बढ़ सके।
- Feasible जिसे किया जा सके, व्यवहार—साध्य Insatiable अति लोभी, जो तृप्त न होवे, Formidable भय पैदा करने वाला।
 - Disposable—एक बार प्रयोग के बाद फेंकने योग्य।
109. (B) Defile का antonym है—clean। Defile—दूषित या मैला करना, अपवित्र करना, Clean स्वच्छ करना, Befoul — बदनाम करना, Tarnish—कलंक लगाना, मलिन होना।
110. (B) दिए गए Direct speech को indirect speech में बदलने के लिए निम्न परिवर्तन करने होंगे—
"—" → that (connective)
Present continuous → Past continuous
Today → that day
The lady said that most of the trains are running late today.
111. (B) The world will की जगह the world does का प्रयोग होगा, क्योंकि वाक्य की Main clause से eternal truth (चिंतन सत्य) का बोध होता है।
112. (C) Blow hot and cold (idiom) का आशय है—कभी हाँ, कभी ना करना, विचार या मत में टुलमुल होना, डाँवाडोल होना, प्रायः खींचते हुए आगे—पीछे करना। अतः विकल्प (C) vacillating सही है।
113. (A) दिए गए Direct speech को Indirect speech में बदलने के लिए निम्नवत् परिवर्तन करने होंगे—
- said to → told
 - "—" → that (connective)
 - Present tense — Past tense
 - Simon told me that he was not well.
114. (D) दिए गए Direct speech को Indirect speech में बदलने के लिए निम्नलिखित परिवर्तन करने होंगे—
- "—" → that (connective)
 - I (Pronoun) → she
 - Present perfect continuous — Past perfect continuous

● Shreya said that she had been feeling very hungry.

115. (C) By leaps and bounds (idioms) का आशय है—बहुत तेजी से दिन दूनी रात चौगुनी। अतः सही विकल्प है—Rapidly।
116. (D) No substitution [वाक्य grammar व structure की दृष्टि से सही है] so the = किसी व्यक्ति की परेशानी या विक्षोभ कम करना, किसी को आराम या राहत पहुँचाना।
117. (B) belonging to the middle ages की जगह Medieval का प्रयोग होगा क्योंकि medieval (इतिहास का मध्यकाल) एक Adjective है जिसे Modify एक Adverb करेगा।
118. (B) रिक्त स्थानों में Flavours तथा existence का प्रयोग उचित है, क्योंकि मानव की जीभ sweet, salty, bitter, sour savoury और सम्भवतः Fat जैसे रसों (Flavours) से जुड़ी होती है और इन tastes के बीच अन्तर को बताना human existence (मानव अस्तित्व) के लिए बताना महत्वपूर्ण होता है। attune = अभ्यस्त, Crucial = अत्यधिक महत्वपूर्ण निर्णायक।
119. (C) Capable का सही synonym है—suitable।
- Capable — कुछ करने में सक्षम या असमर्थ
 - Seasoned — किसी कार्यक्षेत्र में अति अनुभवी
 - Willing — इच्छुक
 - Reliable — विश्वास के योग्य, भरोसेमंद
120. (B) in favour to him की जगह in favour of him का प्रयोग होगा। In favour of somebody का आशय है—किसी के पक्ष में।
121. (A) Can follow the instructions faithful की जगह should follow the instruction faithfully का प्रयोग होगा should = (कर्तव्य या जरूरत का औचित्य व्यक्त करने के लिए प्रयुक्त) चाहिए (करना, जाना आदि)।
122. (A) दिया गया वाक्य Direct speech में है इसका indirect speech का structure निम्नवत् होगा—
[Sub + request + that + sub + might the + V₃ +]
Mr. Collin requested that he might be allowed to deliver the letters to the postman.

123. (B) दिया गया Adjective voice, simple Past Tense में है। इसका passive structure निम्नवत् होगा—
[Sub + were + V₃ + other words]
the kids were bed by his father everyday.
124. (B) दिया गया Active voice simple Present का negative वाक्य है। इसका passive structure निम्नवत् होगा—
[sub + in + not + V₃ +]
This road isn't used much.
125. (D) दिए गए Active voice का Passive structure निम्नवत् होगा—
[sub + had + not + been + V₃ + other words]
the mistake had not been committed by him.
126. (C) obligation का synonym है—Duty
● obligation—कानूनी बाध्यता, कर्तव्य भावना या वचनबद्धता
● Belief — विश्वास, आस्था, श्रद्धा, यह भावना कि कोई वस्तु या व्यक्ति मौखिक रूप से सही है।
127. (A) He is faster enough की जगह He is fast enough का प्रयोग होगा क्योंकि enough के पूर्व positive degree of Adjective का प्रयोग होता है। Enough = Proper limn or degree (पूर्ण या उचित मात्रा में)। यह कार्य होने का कारण (cause) बताता है।
128. (B) दिया गया Active voice, simple Past tense का है। इसका Passive structure निम्नवत् होगा—
[sub + was + V₃ + other words]
Their house was remodelled by Mr. Gupta and his brothers to help it sell.
129. (C) Much books की जगह Many books का प्रयोग होगा, क्योंकि Many का प्रयोग countable noun के साथ तथा much का प्रयोग uncountable nouns के साथ होता है।
130. (C) Ignominy का synonym है—dishonour।
● Ignominy—सार्वजनिक लज्जा, अपमान, अपयश
● Ignorance—सूचना या ज्ञान का अभाव, अज्ञान
● Result—परिणाम, नतीजा फल (किसी अन्य बात के कारण घटित स्थिति)
131. (D) दिया गया Active voice, Present continuous tense में है। इसका Passive Structure निम्नवत् होगा—
[sub + is + being + V₃ + other words]
A car is being bought by Daniel.
132. (C) among की जगह between का प्रयोग होगा, क्योंकि between का प्रयोग दो व्यक्ति। वस्तु के लिए किया जाता है।
133. (D) the doctors claim to discover की जगह the doctors claimed to discover का प्रयोग होगा, क्योंकि action घटित हो चुका है। अतः verb की II Form आएगी।
134. (C) At the eleventh hour (idiom) का आशय है—
ऐन मौके पर, अन्तिम क्षण में, अन्तिम समय पर। अतः विकल्प (c) At the last moment सही है।
135. (D) दिया गया Active voice, present indefinite tense का है। इसका passive structure निम्नवत् होगा—
[sub + are + v₃ + other words]
The important files are quickly picked out by Nargis from her office shelf.
136. (D) दिया गया Direct speech imperative sentence में है। इसका Indirect speech निम्नवत् होगा—
[sub + should + that + sub + should + be + v₃.....]
the little boy in the movie should that he should be left advice or else he would start shouting loudly.
137. (A) From there friends की जगह from their Friends का प्रयोग होगा, क्योंकि वाक्य में pronoun of possessive case से सम्बन्धित त्रुटि है।
138. (B) Omission का सही synonym है—Deletion।
● Omission—शामिल (समाविष्ट) होने से रह गई वस्तु चूक।
● Skipper —नाव या जलयान या खेलने वाले दल का कप्तान
● Maintain — किसी वस्तु को उसी स्तर मानक आदि पर बनाए रखना, जारी रखना
● Accural—उपचय, बढ़ोत्तरी, संग्रहण, संभूति
139. (A) Got into hot water (idiom) का आशय है—मुसीबत में पड़ना, नासमझी के कारण परेशानी में पड़ना। अतः विकल्प (A) landed in trouble सही है।
140. (D) दिया गया Active voice, present continuous tense में है। इसका passive structure निम्नवत् है—
[sub + is + being + v₃ + other words]
The house in the corner is being built by the mason.
141. (D) दिया गया Active voice, simple future tense में है इसका passive structure निम्नवत् है—
[sub + will/shall + be + v₃ + other words]
He will be sent to a boarding school next year by his parents.
142. (B) She talked enormous की जगह she talked enormously का प्रयोग होगा, क्योंकि talked (verb) का एक adverb ही modify करेगा।
143. (B) Was always been की जगह had always been का प्रयोग होगा। वाक्य में Auxiliary verb से संबंधित त्रुटि है।
144. (A) दिया गया वाक्य Active voice Past tense में है। इसका passive structure निम्नवत् होगा—
[sub + could + be + V₃ + other word]
The Junior students could be helped by the scholar at the department in the proposed coaching.
145. (D) रेखांकित वाक्यांश pardonable mistakes के लिए सही one words होगा—venial।
● venial—(पाप या गलती) गम्भीर नहीं अतएव क्षम्य, मामूली
● Credulous—सहज विश्वासी, सीधा—सादा
● Impervious—अभेद्य, प्रबल अगम्य
● Extempore—बिना पूर्व तैयारी के बोला, किया गया लिखा गया तात्कालिक।
146. (A) No substitution
[रेखांकित वाक्यांश to bear with का प्रयोग उचित है। Bear with somebody/ something = किसी (वस्तु या व्यक्ति) के प्रति सहनशील बने रहना]
147. (B) दिया गया Direct speech imperative sentence में है। इसका passive structure निम्नवत् होगा—
[sub + advised + obj. + infinitive (clause)]
My grandfather advised me to respect the national flag always.
148. (C) दिया गया वाक्य Indirect speech में है, इसका Direct speech निम्नवत् है—
["Wh-word + to + V₁ (infinitive) + obj.": sub + asked + obj.]

"Where to find Gauri" Meenal asked Jay.

149. (B) Most memory time की जगह Most memorable time का प्रयोग होगा, क्योंकि time एक noun है जिसे केवल Adjective ही modify करेगा नाकि एक Noun. Memorable स्मरणीय स्मरण करने योग्य या जिसे स्मरण करना सरल हो।
150. (D) दिया गया passive voice, future tense का interrogative वाक्य है। इसका Active structure निम्नवत् होगा—
[Wh-word + will + sub + V₁ + obj. ?]
When will you return the dress?
151. (A) Exaggeration का synonym है— Amplification.
● Exaggeration— अतिशयोक्ति किसी बात को बढ़ा चढ़ा कर कहना।
● Segregation— पृथक्करण, अलगाव, पृथक्तावाद
● Fortification— किलावदी सुदृढ़ीकरण
● Addition— अधिकता, परिशिष्ट, संकलन
152. (A) दिए गए Direct speech को Indirect speech में बदलने के लिए निम्न परिवर्तन करने होंगे—
"—" → that (connective)
Present perfect tense → past perfect tense
Yet → the then
Cannot → could not
I, you (pronoun) → He, me

S	O	N
1	2	3

asper के नियमानुसार।
Amar said that had just bought a car but it wasn't insured till then so, he could not take me for a ride.
153. (B) Crude का synonym होगा— Natural।
● Crude — सरल और बुनियादी, अपरिष्कृत
● Processed — परिष्कृत, ससांघित
● Damp — सीलनभरा, नमी
● Refined — परिष्कृत।
154. (A) No error
[वाक्य Grammar व structure की दृष्टि से सही है।]
Article (a) + Adjective (successful) + Noun (lawyer)]
155. (B) दिया गया वाक्य Indirect speech में है। इसे Direct speech में बदलने के लिए निम्न परिवर्तन करने होंगे—
that (connective) → "—"
had been organised → was organised
the previous day — yesterday
The reported said, "An event

was organised for the present yesterday".

156. (C) Seizure का synonym होगा— Capture।
● Seizure — बल प्रयोग से या कानूनन किसी वस्तु पर नियन्त्रण या आधिपत्य।
● Governance — अधिकार, शासन प्रणाली, शासन—विधि
● Demonstration — किसी बात के सत्य होने के संकेत या किसी वस्तु की कार्यविधि या कार्यपद्धति को प्रदर्शित करने या समझाने की क्रिया
● Stealing — चोरी, चोर कर्म
157. (A) Savoury का synonym होगा— Sweet।
● Savoury—(खाद्य पदार्थ) मीठे से भिन्न स्वाद का, नमकीन आदि।
● Sweet — मधुर, मीठी, मीठा
● Musty — ताजी हवा के अभाव में सीलन वाली गन्ध से भरा
● Pungent— तीखा, तीक्ष्ण, Rancid— वासी और विकृत खाद्य वाली सामग्री।
158. (A) रिक्त स्थान में quietly (Adv.) का प्रयोग होगा। quietly एक Adverb of manner है जो Main verb के पूर्व या Direct object के बाद प्रयोग होता है।
159. (D) Play flute की जगह Play the flute का प्रयोग होगा, क्योंकि musical instrument से पहले Definite article का प्रयोग होता है।
160. (D) विकल्प (D) में प्रयुक्त वाक्य त्रुटिहीन है। विकल्प (A), (B) तथा (C) में Article से सम्बन्धित त्रुटि है।
161. (C) Take on की जगह take after का प्रयोग होगा। take after somebody = परिवार के बड़े-बूढ़े (विश्लेषतः माता-पिता) जैसा लगना या आचरण करना।
162. (D) दिया गया Active voice, simple past tense में है। इसका passive structure निम्नवत् होगा—
[sub + was + being + V₃ + other words]
The stag was being closed by the loin behind the bush.
163. (A) Take away your breath (idiom) का आशय है—आश्चर्य से अथक रहना। अतः विकल्प (A) Astonishing सही है।
164. (B) We will had been की जगह we will have been का प्रयोग होगा, क्योंकि यदि वाक्य में By next के साथ future time हो तथा for + period of time हो तो future perfect continuous tense का प्रयोग किया जाता है।
165. (C) They come to me की जगह they

home का प्रयोग होगा, क्योंकि come to me के बाद yesterday आया है।

166. (D) दिए गए Direct speech को Indirect speech में बदलने के लिए Reporting verb को sense के suggest में बदलते हैं तथा Reported speech को infinitive clause में।
● The team manager suggested us to have some refreshments.
167. (D) दिए गए Active voice का passive structure निम्नवत् होगा—
[sub + was + being + V₃ + other words]
The meal was being cooked by marry.
168. (A) graduate from a reputed की जगह graduated from a reputed का प्रयोग होगा। वाक्य Future perfect tense के structure का है।
169. (B) Confess का सही antonym है— Acknowledge।
● Confess—अपराध या दोष स्वीकार करना।
● Veil — घूँघट, आवरण, नकाब, आच्छादन।
● Deny — किसी बात से इंकार करना।
170. (A) but also he will stay की जगह but also will stay का प्रयोग होगा, क्योंकि वाक्य का structure inversion पर आधारित है अर्थात् verb का subject के पूर्व आना।
171. (C) As per passage the average life expectancy has seen a consistent increase since the 1920 s and was around by years 2019.
172. (A) As per passage, heart diseases has been one of the leading cause of death in India. See the fifth sentence of the second paragraph.
173. (C) The main reason behind high undernourished people in India in low income family. See the 2nd sentence of the second paragraph.
174. (B) On the perusal the given passage. It can be conclude polio diseases has not been prevalent in the country since a few years. so, option (B) is correct.
175. (B) The statement given in option (B) - India is home to over 1.3 billion people in true see the first sentence of given first paragraph of the given passage.

176. (C) As per passage, 21-day long quarantine seemed daunting about travelling to Hong Kong.
177. (A) According to the passage, it is not true that—Airbnb in the largest travel agency in the U.S.
178. (D) According to the passage, figuring out where they can go and what will be open when they get there in remain tricky.
179. (C) The author says that the travel bookings were at highest monthly level in the U.S. in the month of February.
180. (A) As per passage, Zucknick has travelled only in Texas.
181. (C) रिक्त स्थान में only का प्रयोग होगा। only एक Adverb है जो वाक्य में प्रयुक्त Adjective-informed और educated को modify कर रहा है।
182. (C) रिक्त स्थान में intelligent (adj.) का प्रयोग होगा। Intelligent = समझने, सीखने और सोचने की क्षमता से सम्पन्न बुद्धिमान, चतुर।
183. (B) रिक्त स्थान में projects (N) का प्रयोग होगा। Project = परियोजना प्रकल्प योजनाबद्ध और सावधानी से व्यवस्थित कार्य जिसमें प्रायः अनेक लोगों की भागीदारी होती है।
184. (D) रिक्त स्थान में serious (Adj.) का प्रयोग होगा। Serious = दुर्दशाग्रस्त, बुरी हालत या खतरनाक या चिन्ताजनक।
185. (C) रिक्त स्थान में there का प्रयोग उचित है। there एक introductory subject है। अतः विकल्प (c) सही है।
186. (D) रिक्त स्थान में referred (V₃) का प्रयोग उचित है। Referred = व्यक्ति/वस्तु का वर्णन करना या उससे सम्बन्ध बताना।
187. (C) रिक्त स्थान में Shift (N) का प्रयोग होगा। Shift = किसी बात के प्रति विचार या रूख में परिवर्तन।
188. (D) रिक्त स्थान में usage का प्रयोग उचित है। usage किसी वस्तु का प्रयोग।
189. (A) रिक्त स्थान में burned (V₃) का प्रयोग होगा, क्योंकि जब ये fossil fuel जलाये जाते हैं तो green house gases छोड़ते हैं।
190. (C) रिक्त स्थान में temperature (N) का प्रयोग होगा। temperature = तापमान।
191. (B) रिक्त स्थान में times (N) का प्रयोग उचित। times = use for compare things, sometimes, का occasionally.
192. (B) रिक्त स्थान में overcome का प्रयोग उचित है। overcome = व्यक्ति या वस्तु को पराजित या नियन्त्रित कर लेना, किसी बात से अभिभूत हो जाना।
193. (A) रिक्त स्थान में and का प्रयोग उचित है। and (conj.) = used to connect words or parts of sentence.
194. (C) रिक्त स्थान में 'to' का प्रयोग उचित है। to = किसी विषय में किसी का मत या मनोभाव व्यक्त करने के लिए।
195. (B) रिक्त स्थान में (infinitive i.e. (to + v₁)) accept का प्रयोग उचित है। Accept = स्वीकार करना सहमत होना।
196. (C) रिक्त स्थान में the trust का प्रयोग उचित है। trust की चर्चा passage में पूर्व में की गई है। अतः यह definite हो चुका है।
197. (A) रिक्त स्थान में Quite (adj.) का प्रयोग होगा। शब्द natural, Adjective है जिसे modify करने के लिए सही Adverb है—Quite (Adv.) = अधिक नहीं किसी हद तक, अपेक्षाकृत Quite (N) शांति और बहुत कम शोरगुल या हरकत।
198. (A) रिक्त स्थान में holding (present participle) का प्रयोग उचित है। Grudge = अतीत की घटनाओं से क्रोधित होने के कारण मन में उत्पन्न प्रतिकूल भावनाएँ, किसी से घृणा वैमनस्य, ईर्ष्या या दुर्भावना।
199. (B) रिक्त स्थान में one's (possessive case) के pronoun का प्रयोग होगा, क्योंकि, वाक्य में प्रयुक्त subject one है।
200. (D) रिक्त स्थान में operates का प्रयोग होगा। passage, present tense में है और जब दो subject को along with से connect किया जाता है तो verb पहले subject के अनुसार लगती है।

